



МОСКОВСКИЙ
ФИЗИКО-ТЕХНИЧЕСКИЙ
ИНСТИТУТ

ОЛИМПИАДА "ФИЗТЕХ"
ПО МАТЕМАТИКЕ

10 КЛАСС. Вариант 10



1. [4 балла] Натуральные числа a , b , c таковы, что ab делится на $2^{15}7^{11}$, bc делится на $2^{17}7^{18}$, ac делится на $2^{23}7^{39}$. Найдите наименьшее возможное значение произведения abc .

2. [4 балла] Известно, что дробь $\frac{a}{b}$ несократима ($a \in \mathbb{N}$, $b \in \mathbb{N}$). На доске записана дробь

$$\frac{a+b}{a^2-7ab+b^2}$$

При каком наибольшем m могло оказаться, что числитель и знаменатель дроби можно сократить на m ?

3. [4 балла] Центр окружности ω лежит на окружности Ω , хорда AB окружности Ω касается ω в точке C так, что $AC : CB = 17 : 7$. Найдите длину AB , если известно, что радиусы ω и Ω равны 7 и 13 соответственно.

4. [5 баллов] Решите уравнение

$$\sqrt{3x^2 - 6x + 2} - \sqrt{3x^2 + 3x + 1} = 1 - 9x.$$

5. [5 баллов] На координатной плоскости дан параллелограмм с вершинами в точках $O(0; 0)$, $P(-13; 26)$, $Q(3; 26)$ и $R(16; 0)$. Найдите количество пар точек $A(x_1; y_1)$ и $B(x_2; y_2)$ с целыми координатами, лежащих в этом параллелограмме (возможно, на границе) и таких, что $2x_2 - 2x_1 + y_2 - y_1 = 14$.

6. [5 баллов] Найдите все значения параметра a , для каждого из которых найдётся значение параметра b , при котором система

$$\begin{cases} ax + y - 8b = 0, \\ (x^2 + y^2 - 1)(x^2 + (y - 12)^2 - 16) \leq 0 \end{cases}$$

имеет ровно 2 решения.

7. [6 баллов] Треугольник ABC вписан в окружность. Пусть M – середина той дуги AB описанной окружности, которая не содержит точку C ; N – середина той дуги AC описанной окружности, которая не содержит точку B . Найдите расстояние от вершины A до центра окружности, вписанной в треугольник ABC , если расстояния от точек M и N до сторон AB и AC соответственно равны 5 и 2,5.

На одной странице можно оформлять **только одну** задачу.

Отметьте крестиком номер задачи,
решение которой представлено на странице:

МФТИ



1 2 3 4 5 6 7

Если отмечено более одной задачи или не отмечено ни одной задачи,
страница считается черновиком и не проверяется. Порча QR-кода недопустима!

$n \downarrow$

Посмотрим на степени 7:

Т.к. $11 + 18 < 39$, то 11 и 18 не являются
обе минимальными, на которое делится.

Тогда сумма степеней хотя бы 39.

Пусть $\deg_7(a) = 18$; $\deg_7(b) = 11$; $\deg_7(c) = 20$:

Тогда $\deg_7(ab) = 19 \geq 11$; $\deg_7(bc) = 20 \geq 18$;

$\deg_7(ac) = 39 \geq 39$.

Посмотрим на степени 2:

Пусть $\deg_2(a) = x$; $\deg_2(b) = y$; $\deg_2(c) = z$.

Тогда:

$x + y \geq 15$; $y + z \geq 17$; $z + x \geq 23$.

Тогда $2(x + y + z) \geq 55$

$x + y + z \geq \lceil \frac{55}{2} \rceil = 28$

Пусть $x = 10$; $y = 5$; $z = 13$:

Тогда: $\deg_2(ab) = 15 \geq 15$; $\deg_2(bc) = 18 \geq 17$,

$\deg_2(ac) = 23 \geq 23$.

Ответ:

Тогда произведение минимал: $2^{28} \cdot 7^{39}$.

если представить $a = 2^{10} \cdot 7^{18}$; $b = 2^5$; $c = 2^{13} \cdot 7^{20}$

это выполняется
также

На одной странице можно оформлять только одну задачу.

Отметьте крестиком номер задачи,
решение которой представлено на странице:

1	2	3	4	5	6	7
<input type="checkbox"/>	<input checked="" type="checkbox"/>	<input type="checkbox"/>	<input type="checkbox"/>	<input type="checkbox"/>	<input type="checkbox"/>	<input type="checkbox"/>

МФТИ

Если отмечено более одной задачи или не отмечено ни одной задачи,
страница считается черновиком и не проверяется. Порука QR-кода недопустима!

№ 2
Т.к. $\frac{a}{b}$ несократима, то НОД $(a, b) = 1 \Rightarrow$
прост.
пусть p - делитель $a+b$. Тогда он не является
ни делителем a , ни делителем b (иначе

пусть не уменья общности $a: p, b \not\equiv p \Rightarrow$
 $\Rightarrow a+b = \overset{a}{pd} + \overset{b}{(p \cdot n)}$ $= p(d+n) + r \not\equiv p$.
 $r \neq 0$

Тогда запишем $a+b = pq$.

Тогда $a^2 - 7ab + b^2 = pk$.

$a^2 + 2ab + b^2 - 7ab - 2ab = pqk$

$(a+b)^2 - 9ab = pk$

$p^2q^2 - 9ab = pk$

$p(pq^2 - k) = 9ab : p. \quad a \not\equiv p, b \not\equiv p = 9 : p.$

Значит $p = 3$. Также возможен вариант

$m = 9$, т.к. a и $b \not\equiv 3$, 9 подходит. Пример:

$a = 1; b = 8 : \frac{1+8}{1+7 \cdot 8 \cdot 1 - 8^2} = \frac{9}{1-56+64} = \frac{9}{9} = 1.$

Ответ: $m = 9$.

На одной странице можно оформлять только одну задачу.

Отметьте крестиком номер задачи,

решение которой представлено на странице:

1
 2
 3
 4
 5
 6
 7

МОФТИ

Если отмечено более одной задачи или не отмечено ни одной задачи, страница считается черновиком и не проверяется. Порча QR-кода недопустима!



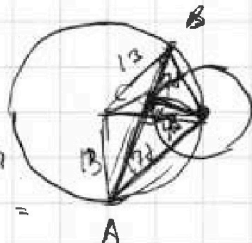
$$11 + 18 + 39 = 2(ac + bc)$$

4 7

$$a + b + c = 34$$

$$\frac{a+b}{a^2+7ab+b^2} = \frac{km}{nm}$$

$$\sqrt{49d^2+49} = \dots$$



НОД(a,b)=1 a:р b:р
 a+b:р

$$a+b = pk$$

$$a^2+7ab+b^2 = pq$$

$$(a+b)^2 - 9ab = pq$$

$$pk - 9ab = pq$$

$$\Rightarrow 9ab = p(k-q)$$

$$\frac{1+2}{1-14+4} = \frac{3}{9}$$

$$\begin{cases} 3x^2 - 6x + 2 > 0 \\ 3x^2 + 3x + 1 > 0 \end{cases}$$

$$49d^2 + 49 = 2 \cdot 13^2 - 2 \cdot 13^2 \cos \alpha$$

$$17d^2 + 49 = 2 \cdot 13^2 \cos \beta$$

$$3x^2 - 6x + 2 + 3x^2 + 3x + 1 - 2\sqrt{(3x^2 - 6x + 2)(3x^2 + 3x + 1)} = 81x^2 - 18x + 1$$

$$6x^2 - 3x + 2 - 2\sqrt{\dots} = 81x^2 - 18x$$

$$-2\sqrt{\dots} = 75x^2 - 15x + 2$$

$$4(3x^2 - 6x + 2)(3x^2 + 3x + 1) = (75x^2 - 15x + 2)^2$$

$$4(9x^4 + 9x^3 + 3x^2 - 18x^3 - 18x^2 - 6x + 6x^2 + 6x + 2)$$

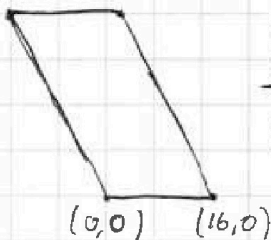
$$= (75^2 x^4 - 2 \cdot 75 \cdot 15 x^3 + 2 \cdot 2 \cdot 75 x^2 + 15^2 x^2 - 2 \cdot 2 \cdot 15 x + 4)$$

$$4(9x^4 - 9x^3 - 9x^2 + 2) = 75^2 x^4 - 30 \cdot 75 x^3 + 4 \cdot 75 x^2 + 15^2 x^2 - 4 \cdot 15 x + 4$$

$$0 = x^4(75^2 - 36) - x^3(30 \cdot 75 - 36) + x^2(15^2 + 4 \cdot 75 + 36) - 4 \cdot 15 x - 4$$

1	1
2	4
3	0
4	7
5	7
6	0
7	4
8	1

(-13, 26) (3, 26)



$$\begin{cases} 49d^2 + 49 = 2 \cdot 13^2 - 2 \cdot 13^2 \cos \alpha \\ 17d^2 + 49 = 2 \cdot 13^2 - 2 \cdot 13^2 \cos \beta \\ 34d^2 = 2 \cdot 13^2 - 2 \cdot 13^2 \cos(\alpha + \beta) \end{cases}$$

$$\cos \alpha = 1 - \frac{49(1+d^2)}{2 \cdot 13^2}$$

$$\cos \beta = 1 - \frac{49(1+d^2)}{2 \cdot 13^2}$$

$$34d^2 = 2 \cdot 13^2 - 2 \cdot 13^2 (\cos \alpha \cos \beta) - \dots$$

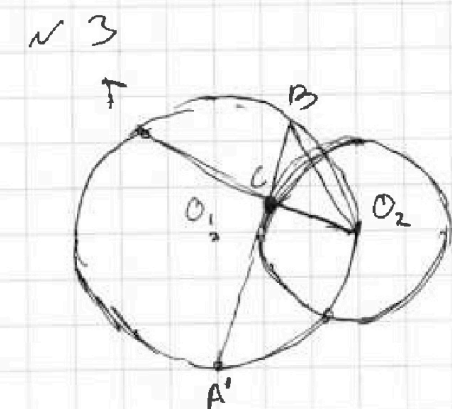
На одной странице можно оформлять только одну задачу.

Отметьте крестиком номер задачи,
решение которой представлено на странице:

1	2	3	4	5	6	7
<input type="checkbox"/>	<input type="checkbox"/>	<input checked="" type="checkbox"/>	<input type="checkbox"/>	<input type="checkbox"/>	<input type="checkbox"/>	<input type="checkbox"/>

МФТИ

Если отмечено более одной задачи или не отмечено ни одной задачи,
страница считается черновиком и не проверяется. Порча QR-кода недопустима!



Пусть O_1 и O_2 - центры
окружностей Ω и ω соотв.

Пусть T - вторая т. пересеч.
 O_2C с Ω . Отметим т.

A' так, что $\angle A'O_1O_2 = 90^\circ$.

Докажем, что это положение нашей т. A'
монотонно

т.к. при \uparrow изменении угла $A'O_1O_2$, $\frac{AC}{CB}$ монотонно

изменяется (при уменьш. ($A' \rightarrow \omega \cap \Omega$))

$\frac{AC}{CB} \rightarrow 0$; при увелич. ($B \rightarrow \omega \cap \Omega$) $\frac{AC}{CB} \rightarrow \infty$).

Значит, только 1 расположение вершин.

т.к. $\angle A'O_1O_2 = 90^\circ$, то $A'O_2^2 = A'O_1^2 + O_1O_2^2 = A'C^2 + CO_1^2 =$

$= A'C^2 + r^2 = 1^2 + 7^2$. Отсюда $\angle A'BO_2 = \frac{\angle A'O_1O_2}{2} = 45^\circ$

$\Rightarrow \angle BCO_2 = 90^\circ \Rightarrow CB = CO_2 = 7 \Rightarrow \frac{A'B}{BC} = \frac{17}{7} \Rightarrow A'$ - есть

точка $A \Rightarrow AB = AC + BC = 24$.

Ответ: $AB = 24$.

На одной странице можно оформлять только одну задачу.

Отметьте крестиком номер задачи,
решение которой представлено на странице:



1	2	3	4	5	6	7
<input type="checkbox"/>	<input type="checkbox"/>	<input type="checkbox"/>	<input type="checkbox"/>	<input checked="" type="checkbox"/>	<input type="checkbox"/>	<input type="checkbox"/>

МФТИ

Если отмечено более одной задачи или не отмечено ни одной задачи,
страница считается черновиком и не проверяется. Порча QR-кода недопустима!

н 5

Наш паралелограмм имеет сторону, паралл

Ox , и сторону, паралл $y = -2x$.

Отсюда пусть $y_1 = y_2 \Rightarrow x_2 - x_1 = 7$.

\Rightarrow на одной прямой возможно взять 10 или
9 точек (в зависимости от количества

расположенных на прямой точек}; 14 по 10

(13 по 9). Если $y_1 = y_2 + 2$, то $x_2 - x_1 = 8$.

Также на варианты расположить вдоль эти точки

паралл переносом вдоль \perp прямой: ~~10~~ или 9

~~13~~ по 10, 12 по 9). Тогда ~~далее~~ заметим,

что при увелич $y_1 - y_2$, мы передвигаемся

вдоль стороны $\parallel y = -2x$. \Rightarrow на каждую гориз.

выборе т.А кол-во вариантов будет одинаково.

\Rightarrow таких случаев: $10 \frac{14 \cdot 15}{2} + 9 \frac{13 \cdot 14}{2} = 2385$

Также есть случаи, когда $y_2 \geq y_1$.

Тогда мы двигаемся уже вдоль прямой $k=2x$
(при изм разн. y_1 и y_2).

А значит, каждый раз кол-во вариантов паралл.

На одной странице можно оформлять только одну задачу.

Отметьте крестиком номер задачи,
решение которой представлено на странице:



1 2 3 4 5 6 7

МФТИ

Если отмечено более одной задачи или не отмечено ни одной задачи,
страница считается черновиком и не проверяется. Порча QR-кода недопустима!

переноса по горизонтали увеличивается
на 2. (также присутствуют "четные" строки,
где число целот. т. на 1 меньше, самих
строк также на 1 меньше).

Тогда число ^{таких} расстановок будет:

$$13 \cdot 12 + 12 \cdot 11 + 12 \cdot 14 + 11 \cdot 13 + 11 \cdot 16 + 10 \cdot 15$$

$$13 \cdot 12 + 12 \cdot 25 + 11 \cdot 29 + 10 \cdot 15 = 925$$


$$\text{Тогда всего перестановок } | 2389 + 925 = \\ = 3314$$

Ответ: 3314 пар.

На одной странице можно оформлять только одну задачу.

Отметьте крестиком номер задачи,
решение которой представлено на странице:

1 2 3 4 5 6 7



Если отмечено более одной задачи или не отмечено ни одной задачи,
страница считается черновиком и не проверяется. Порча QR-кода недопустима!



н 6

$$\begin{cases} ax+cy-8b=0 \\ (x^2+y^2+1)(x^2+(y-12)^2-16) \leq 0 \end{cases}$$

Чтобы выполнялось неравенство возможны 2 случая:

$$\begin{cases} x^2+y^2-1 \leq 0 \\ x^2+(y-12)^2-16 \geq 0 \end{cases}$$

$$\begin{cases} x^2+y^2-1 \geq 0 \\ x^2+(y-12)^2-16 \leq 0 \end{cases}$$

На одной странице можно оформлять только одну задачу.

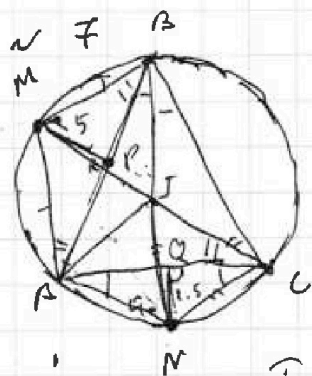
Отметьте крестиком номер задачи,

решение которой представлено на странице:

1 2 3 4 5 6 7

МФТИ

Если отмечено более одной задачи или не отмечено ни одной задачи, страница считается черновиком и не проверяется. Поря QR-кода недопустима!



$\angle BAC = 2\alpha$
 Пусть $\angle ABC = 2\beta$, $\angle ACB = 2\gamma$, I - центр
 впис. окр.
 P - середина AB, Q - середина AC.

Тогда: $\angle NAC = \angle ABN = \angle NBC = \angle ACM = \beta$;

$\angle MAB = \angle ACM = \angle MCB = 2\alpha$

Тогда по лемме о трезубце:

$AN = NC = IN$; $AM = MB = MI$. $\angle ANB = 2\gamma$ (опор
 на дугу AB).

$AN = 2.5 / \sin 2\beta$. $\angle IAN = \alpha + \gamma = 90^\circ - \beta$

\Rightarrow по т. синусов: $\frac{AI}{\sin 2\beta} = \frac{AN}{\sin 90^\circ - \beta}$. $AI = AN \frac{\sin 2\beta}{\cos \beta}$.

$AN = \frac{2.5}{\sin \beta} \Rightarrow AI = \frac{2.5 \cdot \sin 2\beta}{\sin \beta \cos \beta} = 5 \frac{\sin 2\beta}{\sin \beta}$. Аналогично

$AI = 10 \frac{\sin 2\beta}{\sin 2\beta} \Rightarrow 5 \frac{\sin 2\beta}{\sin \beta} = 10 \frac{\sin 2\beta}{\sin 2\beta} \Rightarrow$

$\Rightarrow \frac{\sin 2\beta}{\sin \beta} = \sqrt{2} \Rightarrow \frac{AC}{\sin 2\beta} = \frac{AB}{\sin 2\beta} \Rightarrow \frac{AB}{AC} = \sqrt{2}$.

Т.к. $AN = NI$, $AM = MI$, то $AMIN$ - ромб \Rightarrow

$\Rightarrow AI \perp MN$. Также MN - середн к AI

$\Rightarrow 2 AN \cdot \sin \gamma = AI = 2 AM \cdot \sin \beta \Rightarrow$

$\Rightarrow \frac{2.5 \sin \gamma}{\sin \beta} = \frac{5 \sin \beta}{\sin \gamma} \Rightarrow \sin^2 \gamma = 2 \sin^2 \beta \Rightarrow \frac{\sin \gamma}{\sin \beta} = \sqrt{2} \Rightarrow$

$\Rightarrow MB = MA = \sqrt{2} AN = \sqrt{2} NC$.

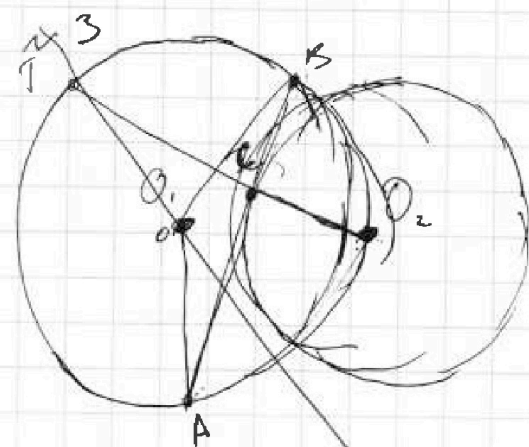
На одной странице можно оформлять только одну задачу.

Отметьте крестиком номер задачи, решение которой представлено на странице:

- 1 2 3 4 5 6 7

ЛМФТИ

Если отмечено более одной задачи или не отмечено ни одной задачи, страница считается черновиком и не проверяется. Поруа QR-кодâ недопустима!



Пусть O_1 и O_2 — центры окружностей Ω и ω соотв.

Пусть T — ^{второе} пересечение прямой O_2C с Ω .

Тогда заметим, что

ровно одна точка C на ω удовлетворяет равенству $AC/BC = \frac{17}{7}$. ^{по дискр. непрерывности*} Докажем, что нам подходит T . C , такая, что $CT = 17$.

Тогда степ. T к Ω отк $\Omega = -7 \cdot 17 = -x^2 - 17x \Rightarrow$

$\Rightarrow x = 1 \Rightarrow AC = 17, BC = 7$. Докажем, что

$\angle ACO_2 \neq 90^\circ$ (тогда AB касательная).

$AO_2 = \sqrt{AO_1^2 + O_1O_2^2} = 13\sqrt{2} = \sqrt{17^2 + 7^2} = \sqrt{338} = \sqrt{2 \cdot 169} = 13\sqrt{2}$. Значит, по т. Пифагора $AC \perp CO_2 \Rightarrow$

$\Rightarrow AB$ касательная к ω . А т.к. T C подходит

и она единственная, то $AB = AC + BC = 24$.

Ответ: 24

* если мы заопим T ближе к T пересек Ω и ω , при увелич $\angle O_1O_2A$

то $\frac{AC}{BC} \rightarrow 0$ если T B то $\frac{AC}{BC} \rightarrow \infty$. Функция $\frac{AC}{BC}$ непрерывна.

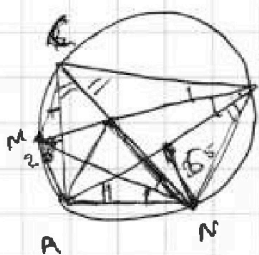
На одной странице можно оформлять только одну задачу.

Отметьте крестиком номер задачи, решение которой представлено на странице:

- 1 2 3 4 5 6 7



Если отмечено более одной задачи или не отмечено ни одной задачи, страница считается черновиком и не проверяется. Порча QR-кода недопустима!



$$\frac{5}{\sin \alpha} = \frac{2.5}{\sin \beta} \Rightarrow \frac{5}{\sin \alpha} = \frac{2.5 \cdot \sin \alpha}{\sin \beta}$$

$$2 = \frac{\sin^2 \alpha}{\sin^2 \beta}$$

$$2x_2 - 2x_1 + y_2 - y_1 = 14$$

$$2(x_2 - x_1) + y_2 - y_1 = 14$$

- 16
- 14 · 10
- 13 · 9
- ~~13 · 12~~
- 13 · 10
- 12 · 9

$$10 \frac{14 \cdot 15}{2} + 9 \frac{13 \cdot 14}{2}$$

$$13 \cdot 12$$

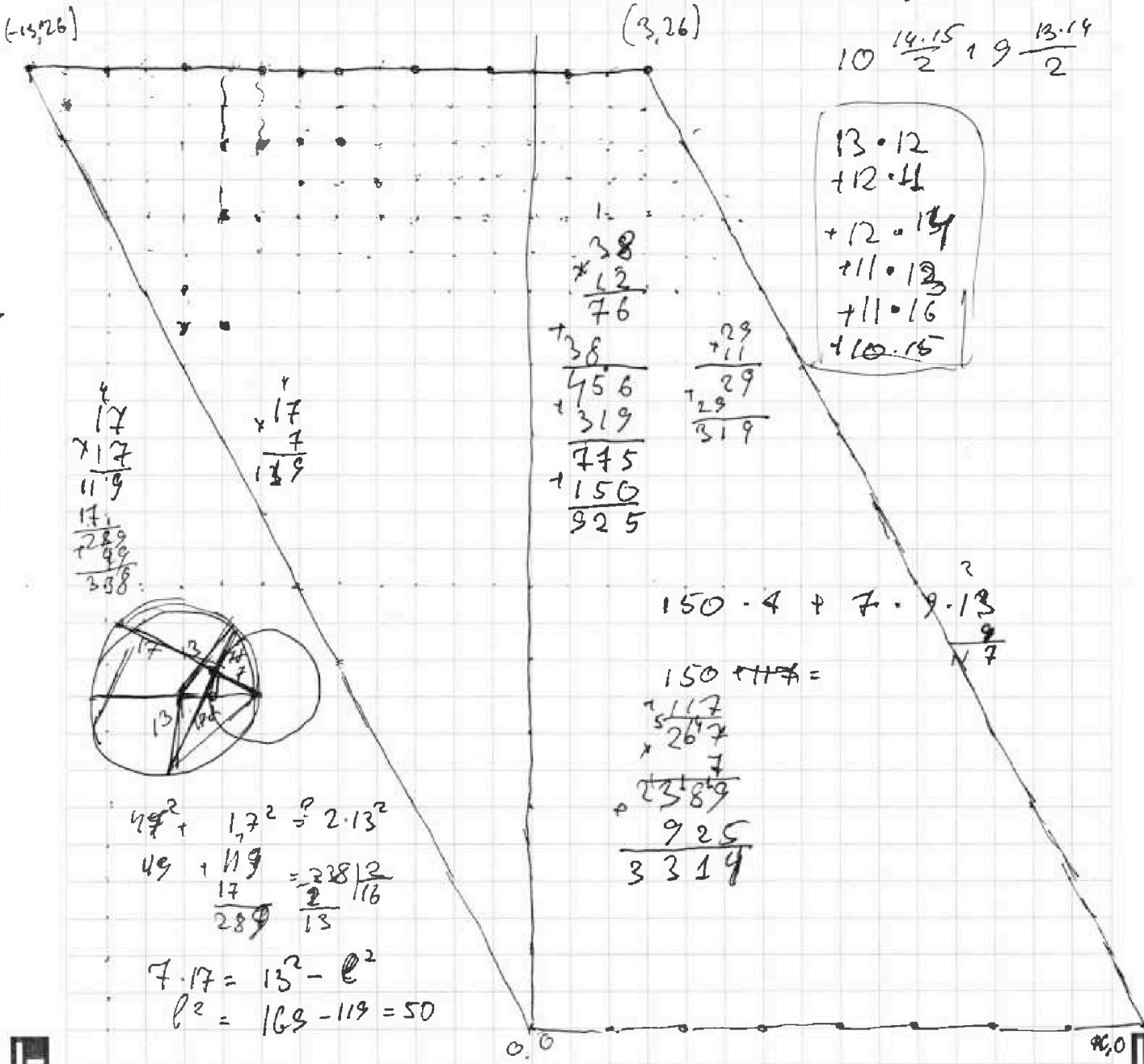
$$+ 12 \cdot 11$$

$$+ 12 \cdot 10$$

$$+ 11 \cdot 13$$

$$+ 11 \cdot 16$$

$$+ 10 \cdot 15$$



$$\begin{array}{r} 38 \\ \times 12 \\ \hline 76 \\ + 38 \\ \hline 456 \\ + 319 \\ \hline 775 \\ + 150 \\ \hline 925 \end{array}$$

$$\begin{array}{r} 29 \\ + 11 \\ \hline 40 \\ + 29 \\ \hline 69 \end{array}$$

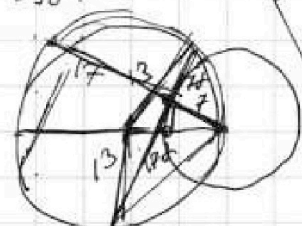
$$150 \cdot 4 + 7 \cdot 9 \cdot 13$$

$$150 \cdot 4 + 7 \cdot 9 \cdot 13 =$$

$$\begin{array}{r} 600 \\ + 819 \\ \hline 1419 \\ \times 267 \\ \hline 85113 \\ + 29010 \\ \hline 3319 \end{array}$$

$$\begin{array}{r} 17 \\ \times 17 \\ \hline 119 \\ + 119 \\ \hline 289 \end{array}$$

$$\begin{array}{r} 17 \\ \times 17 \\ \hline 119 \\ + 119 \\ \hline 289 \end{array}$$



$$49^2 + 17^2 = 2 \cdot 13^2$$

$$49 + 119 = \frac{289}{13}$$

$$7 \cdot 17 = 13^2 - c^2$$

$$c^2 = 169 - 119 = 50$$

На одной странице можно оформлять только одну задачу.

Отметьте крестиком номер задачи,

решение которой представлено на странице:

1
 2
 3
 4
 5
 6
 7



Если отмечено более одной задачи или не отмечено ни одной задачи, страница считается черновиком и не проверяется. Порча QR-кода недопустима!



$$9^2 x^2 = 2 \cdot 13^2 - 2 \cdot 13^2 \left(\frac{2 \cdot 13^2 - 49 - 49x^2}{2 \cdot 13^2} \cdot \frac{2 \cdot 13^2 - 49 - 17^2 x^2}{2 \cdot 13^2} \right)$$

$$- \sqrt{\left(1 - \left(\frac{2 \cdot 13^2 - 49 - 49x^2}{2 \cdot 13^2}\right)^2\right) \left(1 - \left(\frac{2 \cdot 13^2 - 49 - 17^2 x^2}{2 \cdot 13^2}\right)^2\right)}$$

$\cos \beta = \frac{\cos \beta}{2 - \cos \beta}$

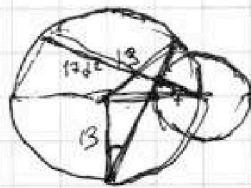

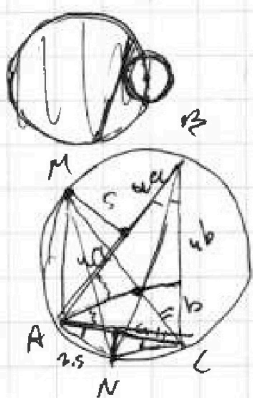
$$24^2 x^2 = 2 \cdot 13^2 - 2 \cdot 13^2 \left(\frac{2 \cdot 13^2 - 49 - 49x^2}{2 \cdot 13^2} \cdot \frac{2 \cdot 13^2 - 49 - 17^2 x^2}{2 \cdot 13^2} \right)$$

$$- \sqrt{\frac{4 \cdot 13^4 - (2 \cdot 13^2 - 49 - 49x^2)^2}{2 \cdot 13^2} \cdot \frac{4 \cdot 13^4 - (2 \cdot 13^2 - 49 - 17^2 x^2)^2}{2 \cdot 13^2}}$$

$13 + 6 = 19$

$$2 \cdot 13^2 \cdot 24^2 x^2 = 4 \cdot 13^4 - (2 \cdot 13^2 - 49 - 49x^2) (2 \cdot 13^2 - 49 - 17^2 x^2)$$

$$- \sqrt{(4 \cdot 13^4 - (2 \cdot 13^2 - 49 - 49x^2)^2) (4 \cdot 13^4 - (2 \cdot 13^2 - 49 - 17^2 x^2)^2)}$$



$7 \cdot 17 \cdot 17 = 7 \cdot 19$
 $17x^2 = y$

$7 \cdot 17 \cdot 17 = 7 \cdot 19$
 $\beta = 17 \cdot 17$

$AN' = \frac{AC}{2 \cos \beta}$
 $AM = \frac{AB}{2 \cos \beta} = \frac{5}{\sin \beta}$
 $AB = \frac{10 \cos \beta}{\sin \beta}$
 $AN = \frac{2 \cdot 5}{\sin \beta}$
 $\frac{AC}{2 \cos \beta} = \frac{2 \cdot 5}{\sin \beta}$

$\sec \beta + 5 \tan \beta = 2a$
 $2a(1 - \cos \beta) = 5 \sin \beta$

$\frac{AI}{\sin \beta} = \frac{AM}{\sin \beta} = \frac{AM}{\cos \beta} = \frac{AB}{2 \cos \beta \cos \beta}$

$AC = \frac{5}{\tan \beta}$

$AB = \frac{10}{\tan \beta}$

$AI = \frac{AB \sin \beta}{2 \cos \beta \cos \beta} = \frac{10 \cdot \sin \beta}{2 \cos \beta \cos \beta \tan \beta} = \frac{10 \sin \beta \cos \beta}{\cos \beta \cos \beta \sin \beta} = 10 \frac{\cos \beta}{\cos \beta} = 5 \frac{\cos \beta}{\cos \beta}$

$\frac{10 \cos \beta}{\cos \beta} = 10 \frac{\cos \beta}{\cos \beta}$

$7 \cdot 17 \cdot 17$
 $\frac{AI}{\sin \beta} = \frac{AB}{\sin \beta} = AB \frac{\sin \beta}{\cos \beta} = 10 \frac{\sin \beta}{\cos \beta}$

$\cos \beta = 2 \cos^2 \beta - \cos^2 \beta \cos^2 \beta$

$\cos^2 \beta = 2 \cos^2 \beta - \cos^2 \beta \cos^2 \beta$

На одной странице можно оформлять только одну задачу.

Отметьте крестиком номер задачи,

решение которой представлено на странице:

1 2 3 4 5 6 7



Если отмечено более одной задачи или не отмечено ни одной задачи, страница считается черновиком и не проверяется. Порча QR-кода недопустима!

$$\sqrt{(x-1)(3x-2)} - x \quad - \quad \sqrt{(x+1)(3x+1)} - x = 1 - 9x$$

15 17 23

$$a+b \geq 15$$

$$b+c \geq 17$$

$$c+a \geq 23$$

$$a+b+c \geq \left[\frac{15+17+23}{2} \right] = \frac{56}{2} = 28$$

$$10 \quad 5$$

$$\frac{11+18+39}{2} =$$

$$CP(CP+5) = AC \circ CB$$

$$BQ(BQ+2.5) = \frac{AB \cdot CB}{AC \cdot 2}$$

$$\sqrt{2} \cdot CP(CP+5) = BQ(BQ+2.5)$$

$$\begin{cases} ax+by-8b=0 \\ (x^2+y^2-1)(x^2+(y-12)^2-16) \leq 0 \end{cases}$$

~~$$ax+by-8b=0$$~~

~~$$x^4 + x^2(y^2-12)^2 - 16x^2 + x^2y^2 + y^2(y-12)^2 - 16y^2$$~~

~~$$-x^2 - (y-12)^2 + 16 \leq 0$$~~

~~$$x^2 + x^2y^2 - 24yx^2 + 144x^2$$~~

$$x^2 + y^2 - 1 \leq 0$$

$$x^2 + (y-12)^2 - 16 \geq 0$$

$$x^2 + y^2 - 24xy + 144 - 16 \geq 0$$

$$x^2 + y^2 - 1 - 24y + 129 \geq 0$$

$$24y \leq 129$$

$$y \leq \frac{129}{24} = \frac{43}{8}$$

$$y \leq 1$$

$$x^2 + y^2 - 1 \geq 0$$

$$x^2 + (y-12)^2 - 16 \leq 0$$

$$x^2 + y^2 - 24y + 144 - 16 \leq 0$$

$$24y \geq 129$$

$$y \geq \frac{43}{8}$$