



МОСКОВСКИЙ
ФИЗИКО-ТЕХНИЧЕСКИЙ
ИНСТИТУТ

ОЛИМПИАДА "ФИЗТЕХ"
ПО МАТЕМАТИКЕ

11 КЛАСС. Вариант 3



1. [3 балла] Найдите все действительные значения x , при каждом из которых существует геометрическая прогрессия, состоящая из действительных чисел и такая, что её десятый член равен $\sqrt{(25x + 34)(3x + 2)}$, двенадцатый член равен $2 - x$, а восемнадцатый член равен $\sqrt{\frac{25x + 34}{(3x + 2)^3}}$.

2. [4 балла] Решите систему уравнений

$$\begin{cases} \sqrt{x+6} - \sqrt{3-x-2z} + 7 = 2\sqrt{y-3x-x^2+z}, \\ |y+2| + 2|y-18| = \sqrt{400-z^2}. \end{cases}$$

3. [5 баллов] Найдите все значения параметра p , при которых уравнение

$$p \cos 3x + 6 \cos 2x + 3(p+4) \cos x + 10 = 0$$

имеет хотя бы одно решение. Решите это уравнение при всех таких p .

4. [5 баллов] Две окружности ω_1 и ω_2 пересекаются в точках A и B , а их общая касательная имеет с ω_1 и ω_2 общие точки C и D соответственно, причём точка B расположена ближе к прямой CD , чем точка A . Луч CB пересекает ω_2 в точках B и E . Найдите отношение $ED : CD$, если диагональ AD четырёхугольника $ACDE$ делит отрезок CE в отношении $7 : 20$, считая от вершины C .
5. [4 балла] Дан клетчатый прямоугольник 500×120 . Сколькими способами можно закрасить 8 клеток этого прямоугольника так, чтобы закрасенное множество обладало хотя бы одной из следующих симметрий: относительно центра прямоугольника, относительно любой из двух "средних линий" прямоугольника ("средней линией" прямоугольника назовём отрезок, соединяющий середины двух его противоположных сторон). Ответ дайте в виде выражения, содержащего не более трёх членов (в них могут входить факториалы, биномиальные коэффициенты).
6. [4 балла] Найдите все тройки целых чисел $(a; b; c)$ такие, что:
- $a < b$,
 - число $b - a$ не кратно 3,
 - число $(a - c)(b - c)$ является квадратом некоторого простого числа,
 - выполняется равенство $a^2 + b = 1000$.
7. [6 баллов] В основании призмы лежит равносторонний треугольник площади 4. Площади её боковых граней равны 6, 6 и 5. Найдите объём призмы.



1 2 3 4 5 6 7

СТРАНИЦА
1 ИЗ 1

Если отмечено более одной задачи или не отмечено ни одной задачи, страница считается черновиком и не проверяется. Страницы по каждой из задач нумеруются отдельно. Порча QR-кода недопустима!

Пусть a - знаменатель прогрессии.

$$\begin{cases} (2-x) = a^2 \sqrt{(25x+34)(3x+2)} \\ \sqrt{\frac{25x+34}{(3x+2)^3}} = a^6 (2-x) \end{cases}$$

Переносим равенства:

$$1 = a^8 \sqrt{(3x+2)^4}$$

$$a^8 = \frac{1}{(3x+2)^2} \Rightarrow a^4 = \frac{1}{|3x+2|} \quad (\text{т.к. } a^4 > 0)$$

~~$$a^2 = \frac{1}{\sqrt{|3x+2|}}$$~~

$$(2-x)^2 = a^4 (25x+34)(3x+2)$$

$$(2-x)^2 = \frac{(25x+34)(3x+2)}{|3x+2|}$$

Разберем 2 случая:

1) $3x+2 \geq 0 \Rightarrow x \geq -\frac{2}{3}$ Тогда:

$$(2-x)^2 = 25x+34$$

$$x^2 - 4x + 4 = 25x + 34$$

$$x^2 - 29x - 30 = 0$$

$$x_1 = 30 \quad x_2 = -1 \quad \text{— не удов. раскл. значениям}$$

пост. корень (не является корнем \pm уравнения исход. системы)

2) $3x+2 < 0 \Rightarrow x < -\frac{2}{3}$

$$x^2 - 4x + 4 = -25x - 34$$

$$x^2 + 21x + 38$$

$$x_1 = -19 \quad x_2 = -2 \quad \text{на проверке установлено, что оба}$$

корня удовлетворяют условию. Ответ: $-19; -2$.



На одной странице можно оформлять только одну задачу. Отметьте крестиком номер задачи, решение которой представлено на странице. Также укажите номер страницы и суммарное количество страниц в решении каждой задачи отдельно.

1 2 3 4 5 6 7

СТРАНИЦА
1 ИЗ 2

Если отмечено более одной задачи или не отмечено ни одной задачи, страница считается черновиком и не проверяется. Страницы по каждой из задач нумеруются отдельно. Порча QR-кода недопустима!

$$\begin{cases} \sqrt{x+6} - \sqrt{3-x-2z} + 7 = 2\sqrt{y-3x-x^2+z} \\ |y+2| + 2|y-18| = \sqrt{400-z^2} \end{cases} \quad \text{№2}$$

Раскроем левую часть второго уравнения на промежутках и найдем минимум на каждом из них:

1) $y \geq 18$: $|y+2| + 2|y-18| = 3y - 34$ MIN равен $3 \cdot 18 - 34 = 20$
 \uparrow при росте y

2) $-2 \leq y \leq 18$: $|y+2| + 2|y-18| = -y + 38$ MIN равен $-18 + 38 = 20$
 \downarrow при росте y

3) $y \leq -2$: $|y+2| + 2|y-18| = -3y + 34$ MIN равен $6 + 34 = 40$
 \downarrow при росте y

т.е. минимум по всей числовой прямой равен 20 и достигается при $y = 18$. ~~Однако~~ найдем максимум выражения справа ($\sqrt{400-z^2}$)

Максимум достигается при МАХ подкоренного: $f(x) = 400 - z^2$ Однако ~~это выражение~~ это выражение максимален при $z = 0$ (из константы вычитается неотрицательное число) \Rightarrow

максимум $\sqrt{400-z^2}$ равен $\sqrt{400} = 20$, это равно ~~минимуму~~ минимуму левой части. Значит у этого уравнения лишь одна пара корней: $y = 18, z = 0$ Подставим их в I уравнение:

$$\sqrt{x+6} - \sqrt{3-x} + 7 = 2\sqrt{18-3x-x^2} \quad \text{ОДЗ: } -6 \leq x \leq 3$$

$$\sqrt{x+6} - \sqrt{3-x} + 7 = 2\sqrt{(x+6)(3-x)}$$

На одной странице можно оформлять только одну задачу. Отметьте крестиком номер задачи, решение которой представлено на странице. Также укажите номер страницы и суммарное количество страниц в решении каждой задачи отдельно.



1 2 3 4 5 6 7

СТРАНИЦА
2 ИЗ 2

Если отмечено более одной задачи или не отмечено ни одной задачи, страница считается черновиком и не проверяется. Страницы по каждой из задач нумеруются отдельно. Порча QR-кода недопустима!

$$\sqrt{x+6} - \sqrt{3-x} = 2\sqrt{(x+6)(3-x)} - 7 \quad |^2$$

$$x+6+3-x - 2\sqrt{(x+6)(3-x)} = 4(x+6)(3-x) - 28\sqrt{(x+6)(3-x)} + 49$$

$$4(x+6)(3-x) - 26\sqrt{(x+6)(3-x)} + 49 = 0$$

$$t = \sqrt{(x+6)(3-x)}$$

$$2t^2 - 13t + 20 = 0$$

$$D = 169 - 160 = 9$$

$$t_1 = \frac{13+3}{4} = 4 \quad t_2 = \frac{13-3}{4} = \frac{5}{2}$$

$$\begin{cases} \sqrt{(x+6)(3-x)} = 4 \\ \sqrt{(x+6)(3-x)} = \frac{5}{2} \end{cases} \Rightarrow \begin{cases} (x+6)(3-x) = 16 \\ 4(x+6)(3-x) = 25 \end{cases} \Rightarrow \begin{cases} -x^2 - 3x + 2 = 0 \\ -4x^2 - 12x + 47 = 0 \end{cases}$$

$$x^2 + 3x - 2 = 0$$

$$D = 9 + 8 = 17$$

$$x_1 = \frac{-3 + \sqrt{17}}{2}$$

$$x_2 = \frac{-3 - \sqrt{17}}{2}$$

$$4x^2 + 12x - 47 = 0$$

$$D_1 = 36 + 4 \cdot 47 = 224$$

$$x_3 = \frac{-6 + 4\sqrt{14}}{4} = \frac{-3 + 2\sqrt{14}}{2}$$

$$x_4 = \frac{-6 - 4\sqrt{14}}{4} = \frac{-3 - 2\sqrt{14}}{2}$$

Все корни удовлетворяют ОДЗ.

Ответ: $\left(\frac{-3 + \sqrt{17}}{2}; 18; 0\right); \left(\frac{-3 - \sqrt{17}}{2}; 18; 0\right);$ ~~$\left(\frac{-3 + 2\sqrt{14}}{2}; 18; 0\right); \left(\frac{-3 - 2\sqrt{14}}{2}; 18; 0\right)$~~

$\left(\frac{-3 - 2\sqrt{14}}{2}; 18; 0\right); \left(\frac{-3 + 2\sqrt{14}}{2}; 18; 0\right)$.



На одной странице можно оформлять только одну задачу. Отметьте крестиком номер задачи, решение которой представлено на странице. Также укажите номер страницы и суммарное количество страниц в решении каждой задачи отдельно.

1 2 3 4 5 6 7

СТРАНИЦА
1 ИЗ 1

Если отмечено более одной задачи или не отмечено ни одной задачи, страница считается черновиком и не проверяется. Страницы по каждой из задач нумеруются отдельно. Порча QR-кода недопустима!

N3

$$\cos 2x = 2\cos^2 x - 1 \quad \cos 3x = \cos x (4\cos^2 x - 3)$$

$$p \cos 3x + 6 \cos 2x + 3(p+4) \cos x + 10 = 0$$

$$p \cos x (4\cos^2 x - 3) + 6(2\cos^2 x - 1) + 3(p+4) \cos x + 10 = 0$$

$$t = \cos x, \quad -1 \leq t \leq 1$$

$$4pt^3 - 3pt + 12t^2 - 6 + 3pt + 12t + 10 = 0$$

$$9pt^3 + 12t^2 + 12t + 4 = 0$$

$$pt^3 + 3t^2 + 3t + 1 = 0$$

$$(t+1)^3 + (p-1)t^3 = 0$$

$$p-1 = -\frac{(t+1)^3}{t^3} \Rightarrow p = -\left(\frac{t+1}{t}\right)^3 + 1 = -\left(1 + \frac{1}{t}\right)^3 + 1$$

$\left. \begin{array}{l} \text{при } t \in [-1; 0) \quad p \text{ убывает от } 1 \text{ до } +\infty \\ \text{при } t \in (0; 1] \quad p \text{ возрастает от } -\infty \text{ до } -7 \end{array} \right\} \Rightarrow$

$$\Rightarrow p \begin{cases} p \geq 1 \\ p \leq -7 \end{cases} \quad \text{при } t=0 \quad p \text{ не определено.}$$

$$\left(1 + \frac{1}{t}\right)^3 = 1 - p$$

$$1 + \frac{1}{t} = \sqrt[3]{1-p}$$

$$t = \frac{1}{\sqrt[3]{1-p} - 1} \Rightarrow$$

$$\left[\begin{array}{l} x = \arccos \left(\frac{1}{\sqrt[3]{1-p} - 1} \right) + 2\pi k, \quad k \in \mathbb{Z} \\ x = -\arccos \left(\frac{1}{\sqrt[3]{1-p} - 1} \right) + 2\pi k, \quad k \in \mathbb{Z} \end{array} \right.$$

ответ: значения p : $(-\infty; -7] \cup [1; +\infty)$;

$$x = \pm \arccos \left(\frac{1}{\sqrt[3]{1-p} - 1} \right) + 2\pi k, \quad k \in \mathbb{Z}$$



На одной странице можно оформлять только одну задачу. Отметьте крестиком номер задачи, решение которой представлено на странице. Также укажите номер страницы и суммарное количество страниц в решении каждой задачи отдельно.

1

2

3

4

5

6

7

СТРАНИЦА
1 ИЗ 1

Если отмечено более одной задачи или не отмечено ни одной задачи, страница считается черновиком и не проверяется. Страницы по каждой из задач нумеруются отдельно. Порча QR-кода недопустима!

N5

Заметим, что если раскраска удовлетворяет хотя бы двум из указанных симметрий, то она ~~удовлетворяет~~ удовлетворяет всем указанным симметриям (т.к. центральная симметрия эквивалентна двум ~~или~~ осевым симметриям относительно взаимно перпендикулярных прямых)

Количество способов сделать центрально симметричную раскраску равно $C_{\frac{500-120}{2}}^4 = C_{30000}^4$ (выбираем 4 точки в верхней половине прямоугольника, остальные будут летать в нижней симметрично вершней). Аналогично количество способов сделать ^{центральную} любую из осевых симметрий тоже равно C_{30000}^4 (выбираем точки в верхней или в левой половине соответственно).

Жалко для того чтобы сделать все симметрии сразу достаточно выбрать 2 точки в верхней-левой четверти прямоугольника (каждой из них будет соответствовать 3-покаждую виду симметрий) Кол-во способов сделать это равно $C_{\frac{500-120}{4}}^2 = C_{15000}^2$

Сложив все возможные способы сделать ~~или~~ любую из симметрий и отняв вышедшее кол-во способов сделать все симметрии сразу (ор этого мы посчитали все трижды) получаем ответ:
ответ: $3 \cdot C_{30000}^4 - 2 \cdot C_{15000}^2$.



На одной странице можно оформлять только одну задачу. Отметьте крестиком номер задачи, решение которой представлено на странице. Также укажите номер страницы и суммарное количество страниц в решении каждой задачи отдельно.

1 2 3 4 5 6 7

СТРАНИЦА
1 из 1

Если отмечено более одной задачи или не отмечено ни одной задачи, страница считается черновиком и не проверяется. Страницы по каждой из задач нумеруются отдельно. Порча QR-кода недопустима!

$(a-c)(b-c) = p^2$ Однако p^2 имеет лишь 3 делителя: 1, p , p^2 .
Рассмотрим все возможные случаи:

1) $a+c = b-c = p$ или $a-c = b-c = -p \Rightarrow a=b$ \nmid с условием

2) $\begin{cases} a-c = p^2 \\ b-c = 1 \end{cases} \Rightarrow a-b = p^2 - 1 > 0 \Rightarrow a > b$ \nmid с условием

3) $\begin{cases} a-c = -1 \\ b-c = -p^2 \end{cases} \Rightarrow a-b = p^2 - 1 > 0 \Rightarrow a > b$ \nmid с условием

4) $\begin{cases} a-c = 1 \\ b-c = p^2 \end{cases} \Rightarrow b-a = p^2 - 1 = (p-1)(p+1)$, $b-a$ не кратно 3 \Rightarrow
 $\Rightarrow p-1$ и $p+1$ не кратны 3 $\Rightarrow p$ не может

иметь остатков 1 или 2 по модулю 3 $\Rightarrow p:3$, но p - простое \Rightarrow

$p=3 \Rightarrow$ ~~всета~~ ~~всета~~ $b-a = 2 \cdot 4 = 8 \Rightarrow b = a+8$

$a^2 + b = 1000$

$a^2 + a + 8 - 1000 = 0$

$a^2 + a - 992 = 0$

$a_1 = -32$ $a_2 = 31$

$b_1 = -29$ $b_2 = 39$

$c_1 = -33$ $c_2 = 30$

5) $\begin{cases} a-c = -p^2 \\ b-c = -1 \end{cases} \Rightarrow b-a = p^2 - 1 = (p-1)(p+1)$, $b-a$ не кратно 3 \Rightarrow (аналогично 4) $\Rightarrow p=3, b=a+8$

$a^2 + a - 992 = 0$

$a_3 = -32$ $a_4 = 31$

$b_3 = -24$ $b_4 = 39$

$c_3 = -23$ $c_4 = 40$

Ответ: $(-32; -24; -33); (31; 39; 30);$

$(-32; -24; 23); (31; 39; 40).$

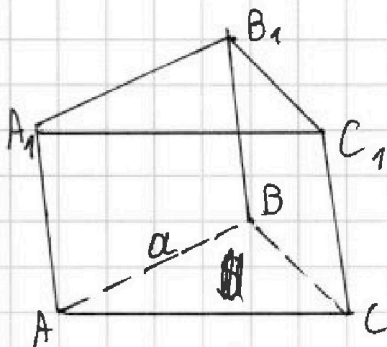


На одной странице можно оформлять только одну задачу. Отметьте крестиком номер задачи, решение которой представлено на странице. Также укажите номер страницы и суммарное количество страниц в решении каждой задачи отдельно.

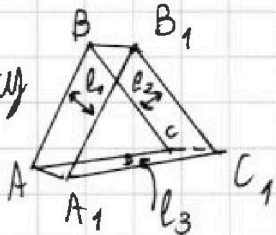
1 2 3 4 5 6 7

СТРАНИЦА
1 из 1

Если отмечено более одной задачи или не отмечено ни одной задачи, страница считается черновиком и не проверяется. Страницы по каждой из задач нумеруются отдельно. Порча QR-кода недопустима!



Выг:
сверху

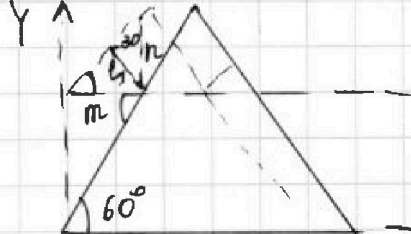


N 7 Дано: $S_0 = 4; S_1 = S_2 = 6; S_3 = 5$
 $AB = BC = AC = a$
Дано Все боковые стороны

призмы - параллелограммы (т.к. стороны основания призмы равны и ||)
Их высоты - высоты треугол. Δ один катет которого - высота призмы, а другой - расстояние от проекции стороны одного основания на другую сторону другого основания. Тогда:

$$S_1 = a \cdot \sqrt{h^2 + l_1^2} = S_2 = a \sqrt{h^2 + l_2^2} = 6 \Rightarrow l_1 = l_2$$

$$S_3 = a \sqrt{h^2 + l_3^2} = 5$$



Пусть ~~одно~~ проекция одного основания на плоскость другого получается путём сдвига Π основания на l_3 вдоль OY , тогда:
и на x вдоль OX

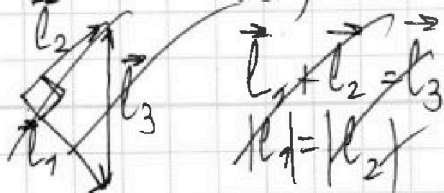
~~$l_1 = \sqrt{3} \tan 30^\circ$~~ $l_1 = \frac{l_3 x}{\sqrt{\frac{l_3^2}{3} + x^2}}$

~~$S_1^2 = a^2 (h^2 + \frac{l_3^2 x^2}{l_3^2 + x^2}) = 36$~~
 ~~$S_3^2 = a^2 (h^2 + l_3^2) = 25$~~

$$n = l_3 + x \operatorname{tg} 60^\circ$$

$$m = x + l_3 \operatorname{tg} 30^\circ$$

$$l_1 = \frac{mn}{\sqrt{m^2 + n^2}}$$



$$\vec{l}_1 + \vec{l}_2 = \vec{l}_3$$

На одной странице можно оформлять только одну задачу. Отметьте крестиком номер задачи, решение которой представлено на странице. Также укажите номер страницы и суммарное количество страниц в решении каждой задачи отдельно.



1 2 3 4 5 6 7

СТРАНИЦА
___ ИЗ ___

Если отмечено более одной задачи или не отмечено ни одной задачи, страница считается черновиком и не проверяется. Страницы по каждой из задач нумеруются отдельно. Порча QR-кода недопустима!

$$\rho \cos 2x = \cancel{2\cos} 2\cos^2 x - 1$$

$$\cos 3x = \cos(2x+x) = \cos 2x \cos x - \sin 2x \sin x =$$

$$(2\cos^2 x - 1) \cos x - 2 \sin^2 x \cos x = \cos x (2\cos^2 x - 2\sin^2 x - 1) = \cos x (4\cos^2 x - 3)$$

$$t = \cos x$$

$$\cancel{\rho \cos x} \quad 4t^3 - 3t + 12t^2 \quad a - b + 7 = 2ab$$

$$(t+1)^3 + (p-1)t^3 = 0$$

8

1

$$p-1 = -8$$

$$p = -7$$

$$3pt^2 + 6t + 3 = 0$$


$$pt^2 + 2t + 1 = 0$$

$$a+7 = b(2a+1)$$

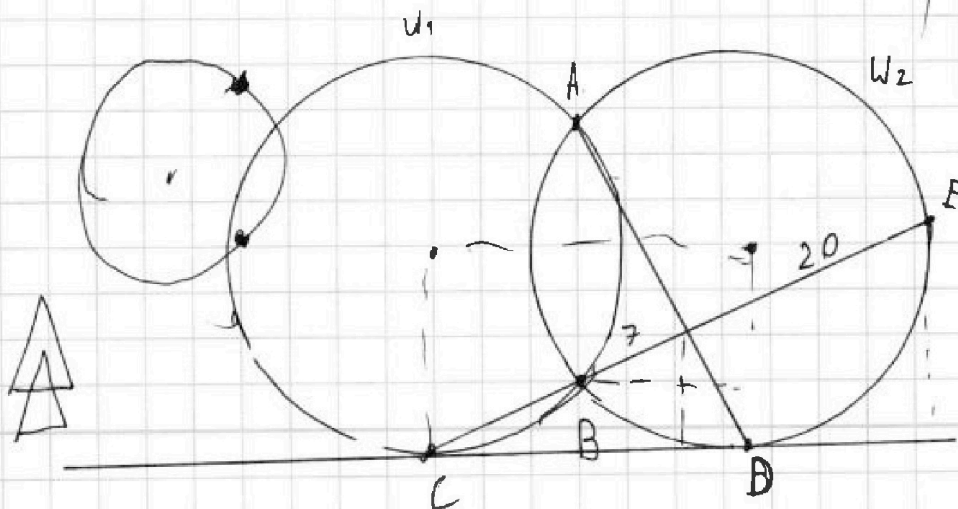
$$b = \frac{a+7}{2a+1}$$

$(-7; 1)$

$OD3: [-6; 3]$



$$p-1 = - \frac{(t+1)^3}{t^3} = - \left(\frac{t+1}{t} \right)^3 = - \left(1 + \frac{1}{t} \right)^3$$





На одной странице можно оформлять только одну задачу. Отметьте крестиком номер задачи, решение которой представлено на странице. Также укажите номер страницы и суммарное количество страниц в решении каждой задачи отдельно.

1 2 3 4 5 6 7

СТРАНИЦА
__ ИЗ __

Если отмечено более одной задачи или не отмечено ни одной задачи, страница считается черновиком и не проверяется. Страницы по каждой из задач нумеруются отдельно. Порча QR-кода недопустима!

$$b - a = p^2 - 1 = (p-1)(p+1) \Rightarrow p \div 3 \Rightarrow p = 3$$

$$\begin{aligned} b - a &= 8 \\ a^2 + b &= 9000 \end{aligned}$$

$$\frac{250 \cdot 60 \cdot (250 \cdot 60 - 1)}{2}$$

$$C_{250 \cdot 60}$$

~~$$C_{60000}$$~~

$$C_{500 \cdot 60}^4 = C_{30000}^4$$

$$C_{60000}^4$$

$$2 \cdot C_{30000}^4 + C_{60000}^4$$

$$\sqrt{x+6}$$

$$\sqrt{x+6} + 7 = 2\sqrt{3-x} \sqrt{x+6}$$

1

$$(3 \cdot C_{30000}^4 - 2 \cdot C_{15000}^2) \beta$$

$$x+6-3$$

$$\sqrt{a} - \sqrt{b} + 7 = 2\sqrt{ab}$$

$$y+2 - 2y+36 = 38-y$$

$$-y-2 - 2y+36 = 34-3y$$

$$\sqrt{3-x} (2\sqrt{x+6})$$

$$(x+6)\sqrt{3-x} - (3-x)\sqrt{x+6}$$



На одной странице можно оформлять только одну задачу. Отметьте крестиком номер задачи, решение которой представлено на странице. Также укажите номер страницы и суммарное количество страниц в решении каждой задачи отдельно.

1 2 3 4 5 6 7

СТРАНИЦА
__ ИЗ __

Если отмечено более одной задачи или не отмечено ни одной задачи, страница считается черновиком и не проверяется. Страницы по каждой из задач нумеруются отдельно. Порча QR-кода недопустима!

$$5 = \frac{a^2 \sqrt{3}}{4} = 4 \quad x+6+3-x$$

$$a^2 = \frac{16}{\sqrt{3}} = \frac{16\sqrt{3}}{3} \Rightarrow a = \frac{4}{\sqrt[4]{3}}$$

$$1) \quad 2-x = a^2 \sqrt{(25x+34)/(3x+2)}$$

$$\sqrt{\frac{25x+34}{(3x+2)^3}} = (2-x) a^6$$

$$\frac{1}{2^6} = a^2 (3x+2)^2 \quad 2^8 = \frac{1}{(3x+2)^2}$$

$$1) \quad 16 \cdot 56 = 8 \cdot 14 \quad 2^4 = \frac{1}{|3x+2|}$$

$$\begin{array}{r} 188 \\ + 36 \\ \hline 224 \end{array} \quad 2-x = \frac{(25x+34)(3x+2)}{|3x+2|}$$

Таким $3x+2 \geq 0$

$$x \geq -\frac{2}{3} \quad 16 \cdot 14 \quad 18^2 \quad 2-x = 25x+34 \quad (7)$$

$$26x = -32$$

$$a < b$$

$$b-a \not\equiv 3$$

$$a \not\equiv b \pmod{3}$$

$$a = b \pmod{4}$$

$$(a-c)(b-c) = p^2$$

$$1) \quad a-c = b-c = p \pmod{4}$$

$$a^2 + b = 1000$$

$$2) \quad a-c = 1 \quad b-c = p^2$$