



МОСКОВСКИЙ
ФИЗИКО-ТЕХНИЧЕСКИЙ
ИНСТИТУТ

ОЛИМПИАДА "ФИЗТЕХ"
ПО МАТЕМАТИКЕ

11 КЛАСС. Вариант 2



1. [4 балла] Натуральные числа a, b, c таковы, что ab делится на $2^7 3^{11} 5^{14}$, bc делится на $2^{13} 3^{15} 5^{18}$, ac делится на $2^{14} 3^{17} 5^{43}$. Найдите наименьшее возможное значение произведения abc .

2. [5 баллов] Дан прямоугольный треугольник ABC . Окружность, касающаяся прямой AC в точке A , пересекает высоту CD , проведённую к гипотенузе, в точке E , а катет BC – в точке F . Известно, что $AB \parallel EF$, $AB : BD = 1,3$. Найдите отношение площади треугольника ACD к площади треугольника CEF .

3. [4 балла] Решите уравнение $5 \arccos(\sin x) = \frac{3\pi}{2} + x$.

4. [5 баллов] Найдите все значения параметра a , для каждого из которых найдётся значение параметра b , при котором система уравнений

$$\begin{cases} x + 3ay - 7b = 0, \\ (x^2 + 14x + y^2 + 45)(x^2 + y^2 - 9) = 0 \end{cases}$$

имеет ровно 4 решения.

5. [5 баллов] Некоторые числа x и y удовлетворяют равенствам

$$\log_7^4(6x) - 2 \log_{6x} 7 = \log_{36x^2} 343 - 4, \quad \text{и} \quad \log_7^4 y + 6 \log_y 7 = \log_{y^2} (7^5) - 4.$$

Найдите все возможные значения произведения xy .

6. [5 баллов] На координатной плоскости дан параллелограмм с вершинами в точках $O(0;0)$, $P(-17;68)$, $Q(2;68)$ и $R(19;0)$. Найдите количество пар точек $A(x_1; y_1)$ и $B(x_2; y_2)$ с целыми координатами, лежащих в этом параллелограмме (возможно на границе) и таких, что $4x_2 - 4x_1 + y_2 - y_1 = 40$.

7. [6 баллов] Дана треугольная пирамида $SABC$, медианы AA_1 , BB_1 и CC_1 треугольника ABC пересекаются в точке M . Сфера Ω касается ребра AS в точке L и касается плоскости основания пирамиды в точке K , лежащей на отрезке AM . Сфера Ω пересекает отрезок SM в точках P и Q . Известно, что $SP = MQ$, площадь треугольника ABC равна 60, $SA = BC = 10$.

а) Найдите произведение длин медиан AA_1 , BB_1 и CC_1 .

б) Найдите двугранный угол при ребре BC пирамиды, если дополнительно известно, что Ω касается грани BCS в точке N , $SN = 3$, а радиус сферы Ω равен 4.

На одной странице можно оформлять только одну задачу.

Отметьте крестиком номер задачи,
решение которой представлено на странице:

МФТИ



1 2 3 4 5 6 7

Если отмечено более одной задачи или не отмечено ни одной задачи,
страница считается черновиком и не проверяется. Порча QR-кода недопустима!

N 1

$$ab: 2^7 \cdot 3^{11} \cdot 5^{14}; \quad bc: 2^{13} \cdot 3^{15} \cdot 5^{18}; \quad ac: 2^{14} \cdot 3^{17} \cdot 5^{43}.$$

Ясно, что если a, b или c содержат в себе простые множители, кроме 2, 3 и 5, то значение abc будет не наименьшим. Тогда:

$$a = 2^{\alpha_1} \cdot 3^{\alpha_2} \cdot 5^{\alpha_3}, \quad b = 2^{\beta_1} \cdot 3^{\beta_2} \cdot 5^{\beta_3}, \quad c = 2^{\gamma_1} \cdot 3^{\gamma_2} \cdot 5^{\gamma_3}.$$

При этом $\alpha_1 + \beta_1 + \gamma_1 \geq 14$, $\alpha_2 + \beta_2 + \gamma_2 \geq 17$, $\alpha_3 + \beta_3 + \gamma_3 \geq 43$.

1) $\alpha_1 + \beta_1 \geq 7$, $\beta_1 + \gamma_1 \geq 13$, $\alpha_1 + \gamma_1 \geq 14$.

Если нам удастся решить эту систему, заметив знаки неравенства на равенства, в целях неопределенности, то мы найдём наименьшее значение $\alpha_1 + \beta_1 + \gamma_1$.

$$\begin{cases} \alpha_1 + \beta_1 = 7, \\ \beta_1 + \gamma_1 = 13, \\ \alpha_1 + \gamma_1 = 14; \end{cases} \iff \alpha_1 = 4, \beta_1 = 3, \gamma_1 = 10. \\ \therefore \alpha_1 + \beta_1 + \gamma_1 = 17.$$

2) $\alpha_2 + \beta_2 \geq 11$, $\beta_2 + \gamma_2 \geq 15$, $\alpha_2 + \gamma_2 \geq 17$.

Поскольку система $\begin{cases} \alpha_2 + \beta_2 = 11, \\ \beta_2 + \gamma_2 = 15, \\ \alpha_2 + \gamma_2 = 17. \end{cases}$ не имеет решений

в целом неотрицательных, надо вернуться к знаку неравенства. Попробуем взять $\alpha_2 + \beta_2 = 12$. От того, к правой части какого из трёх уравнений мы прибавим 1, сумма $\alpha_2 + \beta_2 + \gamma_2$ не изменится. С точки зрения суммы $\alpha_2 + \beta_2 + \gamma_2$ с нами же успешно можно было взять $\beta_2 + \gamma_2 = 16$, а другие уравнения оставить неизменными, и тогда мы же с тремя уравнениями системы.

На одной странице можно оформлять только одну задачу.

Отметьте крестиком номер задачи,
решение которой представлено на странице:



| | | | | | | |
|-------------------------------------|--------------------------|--------------------------|--------------------------|--------------------------|--------------------------|--------------------------|
| 1 | 2 | 3 | 4 | 5 | 6 | 7 |
| <input checked="" type="checkbox"/> | <input type="checkbox"/> | <input type="checkbox"/> | <input type="checkbox"/> | <input type="checkbox"/> | <input type="checkbox"/> | <input type="checkbox"/> |

МФТИ

Если отмечено более одной задачи или не отмечено ни одной задачи,
страница считается черновиком и не проверяется. Порча QR-кода недопустима!

№1 (проделанные)

Итак,
$$\begin{cases} \alpha_2 + \beta_2 = 12, \\ \beta_2 + \gamma_2 = 15, \\ \alpha_2 + \gamma_2 = 17. \end{cases} \Leftrightarrow \alpha_2 = 7, \beta_2 = 5, \gamma_2 = 10.$$
$$\therefore \alpha_2 + \beta_2 + \gamma_2 = 22.$$

3) $\alpha_3 + \beta_3 \geq 19, \beta_3 + \gamma_3 \geq 18, \alpha_3 + \gamma_3 \geq 43.$

Значения $\alpha_3 = 14, \beta_3 = 0, \gamma_3 = 29$ удовлетворяют всем неравенствам, причем тогда $\alpha_3 + \beta_3 + \gamma_3 = 43$, а ранее было сказано, что $\alpha_3 + \beta_3 + \gamma_3 \geq 43$ (это очевидно, т.к. $a \leq 5^{43}$). Значит, минимальное значение $\alpha_3 + \beta_3 + \gamma_3$.

Итак, $abc = 2^{\alpha_1 + \beta_1 + \gamma_1} \cdot 3^{\alpha_2 + \beta_2 + \gamma_2} \cdot 5^{\alpha_3 + \beta_3 + \gamma_3} =$
$$= 2^{17} \cdot 3^{22} \cdot 5^{43}.$$

Ответ: $2^{17} \cdot 3^{22} \cdot 5^{43}$

На одной странице можно оформлять только одну задачу.

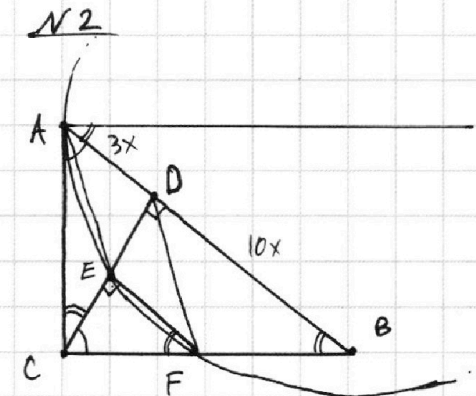
Отметьте крестиком номер задачи,

решение которой представлено на странице:

| | | | | | | |
|--------------------------|-------------------------------------|--------------------------|--------------------------|--------------------------|--------------------------|--------------------------|
| 1 | 2 | 3 | 4 | 5 | 6 | 7 |
| <input type="checkbox"/> | <input checked="" type="checkbox"/> | <input type="checkbox"/> | <input type="checkbox"/> | <input type="checkbox"/> | <input type="checkbox"/> | <input type="checkbox"/> |

МФТИ

Если отмечено более одной задачи или не отмечено ни одной задачи, страница считается черновиком и не проверяется. Порча QR-кода недопустима!



Дано: $\triangle ABC$ ($\angle C = 90^\circ$),

$\omega(O; R)$ — окружность, касаясь

AC в A. $\omega \cap CD = E$, где

CD — высота. $\omega \cap BC = F$.

$AB \parallel EF$, $AB:BD = 1,3$. Найти:

$$S_{\triangle ACD} : S_{\triangle CEF}.$$

Решение:

1) $\frac{AB}{BD} = 1,3 \Rightarrow$ Если $BD = 10x$, то $AD = 3x$.

Потому, поскольку $\triangle ACD$, $\triangle ABC$, $\triangle CFE$, $\triangle CBD$ подобны, находим, что $CD = \sqrt{30}x$, $AC = \sqrt{30}x$, $BC = \sqrt{30}x$

2) Очевидно, $EF = \frac{3}{7}BD = \frac{30}{7}x$.

Потому $S_{\triangle ACD} : S_{\triangle CEF} = (CD : EF)^2 = \left(\frac{\sqrt{30} \cdot 7}{30}\right)^2 = \frac{49}{30}$

Ответ: $\frac{49}{30}$.

На одной странице можно оформлять **только одну** задачу.

Отметьте крестиком номер задачи,
решение которой представлено на странице:

1 2 3 4 5 6 7

МФТИ

Если отмечено более одной задачи или не отмечено ни одной задачи,
страница считается черновиком и не проверяется. Порча QR-кода недопустима!



N 3

$$5 \arccos(\sin x) = \frac{3\pi}{2} + x$$

$$\arccos(\sin x) = \frac{1}{5} \cdot \left(\frac{3\pi}{2} + x \right)$$

$$\Leftrightarrow \begin{cases} \sin x = \cos\left(\frac{1}{5}\left(\frac{3\pi}{2} + x\right)\right), & (1) \\ 0 \leq \frac{1}{5}\left(\frac{3\pi}{2} + x\right) \leq \pi. & (2) \end{cases}$$

$$(1): \cos\left(\frac{\pi}{2} - x\right) = \cos\left(\frac{1}{5}\left(\frac{3\pi}{2} + x\right)\right)$$

$$\begin{cases} \frac{\pi}{2} - x = \frac{1}{5}\left(\frac{3\pi}{2} + x\right) + 2\pi k, \\ x - \frac{\pi}{2} = \frac{1}{5}\left(\frac{3\pi}{2} + x\right) + 2\pi n, \end{cases} \quad k \in \mathbb{Z}; n \in \mathbb{Z};$$

$$\begin{cases} \frac{6}{5}x = \frac{\pi}{2} - \frac{3\pi}{10} - 2\pi k, \\ \frac{4}{5}x = \frac{\pi}{2} + \frac{3\pi}{10} + 2\pi n; \end{cases}$$

$$\begin{cases} x = \frac{\pi}{6} - \frac{5\pi k}{3}, \\ x = \pi + \frac{5\pi n}{2}. \end{cases}$$

$$(2): 1) x = \frac{\pi}{6} - \frac{5\pi k}{3};$$

$$0 \leq \frac{1}{5} \cdot \left(\frac{3\pi}{2} + \frac{\pi}{6} - \frac{5\pi k}{3} \right) \leq \pi$$

$$0 \leq \frac{3}{2} + \frac{1}{6} - \frac{5k}{3} \leq 5$$

$$-\frac{5}{3} \leq -\frac{5k}{3} \leq \frac{10}{3}$$

$$\therefore k = -2; -1; 0; 1. \Rightarrow x = -\frac{3\pi}{2}; \frac{\pi}{6}; \frac{11\pi}{6}; \frac{21\pi}{6}.$$

$$2) x = \pi + \frac{5\pi n}{2};$$

$$0 \leq \frac{1}{5} \left(\frac{3\pi}{2} + \pi + \frac{5\pi n}{2} \right) \leq \pi$$

$$0 \leq \frac{3}{2} + 1 + \frac{5n}{2} \leq 5$$

$$-\frac{5}{2} \leq \frac{5n}{2} \leq \frac{5}{2}.$$

На одной странице можно оформлять **только одну** задачу.

Отметьте крестиком номер задачи,
решение которой представлено на странице:



| | | | | | | |
|--------------------------|--------------------------|-------------------------------------|--------------------------|--------------------------|--------------------------|--------------------------|
| 1 | 2 | 3 | 4 | 5 | 6 | 7 |
| <input type="checkbox"/> | <input type="checkbox"/> | <input checked="" type="checkbox"/> | <input type="checkbox"/> | <input type="checkbox"/> | <input type="checkbox"/> | <input type="checkbox"/> |

МФТИ

Если отмечено более одной задачи или не отмечено ни одной задачи,
страница считается черновиком и не проверяется. Порча QR-кода недопустима!

№ 3 (продолжение)

$$\therefore k = -1; 0; 1 \Rightarrow x = -\frac{3\pi}{2}; \pi; \frac{7\pi}{2}.$$

$$\text{Ответ: } -\frac{3\pi}{2}; \frac{\pi}{6}; \pi; \frac{7\pi}{6}; \frac{7\pi}{2}.$$

На одной странице можно оформлять только одну задачу.

Отметьте крестиком номер задачи,

решение которой представлено на странице:

| | | | | | | |
|--------------------------|--------------------------|--------------------------|-------------------------------------|--------------------------|--------------------------|--------------------------|
| 1 | 2 | 3 | 4 | 5 | 6 | 7 |
| <input type="checkbox"/> | <input type="checkbox"/> | <input type="checkbox"/> | <input checked="" type="checkbox"/> | <input type="checkbox"/> | <input type="checkbox"/> | <input type="checkbox"/> |

МФТИ

Если отмечено более одной задачи или не отмечено ни одной задачи, страница считается черновиком и не проверяется. Порча QR-кода недопустима!



№4
... все a , для которых найдётся b , такса, что 4 решения.

$$\begin{cases} x + 3ay - 7b = 0, & (1) \\ (x^2 + 14x + y^2 + 45)(x^2 + y^2 - 9) = 0. & (2) \end{cases}$$

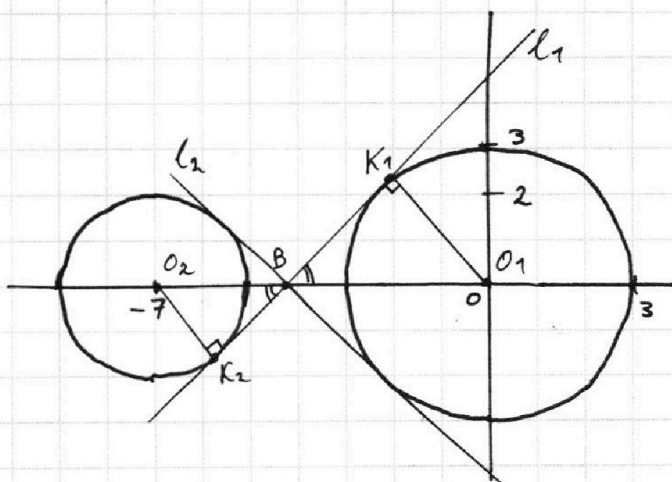
$$(2): \begin{cases} x^2 + 14x + y^2 + 45 = 0, \\ x^2 + y^2 - 9 = 0; \end{cases} \begin{cases} (x+7)^2 + y^2 = 2^2, \\ x^2 + y^2 = 3^2. \end{cases} \quad \text{— две окружности.}$$

$$(1): x + 3ay - 7b = 0.$$

Если $a = 0$: $x = 7b$ — вертикальное прямая в плоскости xOy . Скоро станет видно, что такая прямая не может пересекать две окружности (2) в четырёх точках.

Тогда $a \neq 0$:

$$y = -\frac{1}{3a}x + \frac{7b}{3a} \quad \text{— линейная ф-ция.}$$



Пусть $-\frac{1}{3a} = k \in \mathbb{R}$, $\frac{7b}{3a} = c \in \mathbb{R}$.

l_1 — общая касательная к двум окр-там.

l_2 — график прямой $y = kx + c$, $k_1 > 0$.

Точки O_1, O_2, K_1, K_2 и B — на рисунке.

$\triangle O_2 K_2 B \sim \triangle O_1 K_1 B$ по двум углам с коэффициентом

На одной странице можно оформлять **только одну** задачу.

Отметьте крестиком номер задачи,
решение которой представлено на странице:

| | | | | | | |
|--------------------------|--------------------------|--------------------------|-------------------------------------|--------------------------|--------------------------|--------------------------|
| 1 | 2 | 3 | 4 | 5 | 6 | 7 |
| <input type="checkbox"/> | <input type="checkbox"/> | <input type="checkbox"/> | <input checked="" type="checkbox"/> | <input type="checkbox"/> | <input type="checkbox"/> | <input type="checkbox"/> |

МФТИ

Если отмечено более одной задачи или не отмечено ни одной задачи,
страница считается черновиком и не проверяется. Порча QR-кода недопустима!

и (продолжение)

погоде $\frac{O_1 K_1}{O_2 K_2} = \frac{3}{2}$. Пусть $O_1 B = 3x$, тогда $O_2 B = 2x$. $O_1 B + O_2 B = O_1 O_2 = 7$. $\Rightarrow x = \frac{7}{5}$.

$$\Delta BK_1 O_1: O_1 K_1 = 3, BO_1 = 3x = \frac{21}{5}, \angle BK_1 O_1 = 90^\circ \\ \Rightarrow BK_1 = \sqrt{\left(\frac{21}{5}\right)^2 - 3^2} = \frac{6\sqrt{6}}{5}$$

$$\therefore k_1 = \operatorname{tg} \angle K_1 B O_1 = \frac{3 \cdot 5}{6\sqrt{6}} = \frac{5\sqrt{6}}{12}$$

Аналогично для прямой l_2 , являющейся графиком функции $y = k_2 x + c_2$, $k_2 = -\frac{5\sqrt{6}}{12}$, т.е. $k_2 < 0$.

Итак, необходимо понять, что если $k \in (k_2; k_1)$, то найдётся такое c , что прямая заданная функцией $y = kx + c$ имеет с окружностью 4 общие точки. Стоит заметить, что c зависит и от a , и от b , но для любого желаемого значения c , при заданном значении a , можно подобрать b , решив уравнение $b = \frac{3}{7}ac$.

$$\begin{cases} k < k_1, \\ k > k_2; \end{cases} \begin{cases} -\frac{1}{3a} < \frac{5\sqrt{6}}{12}, \\ -\frac{1}{3a} > -\frac{5\sqrt{6}}{12}; \end{cases} \begin{cases} \frac{1}{a} + \frac{5\sqrt{6}}{4} > 0, \\ \frac{1}{a} - \frac{5\sqrt{6}}{4} < 0; \end{cases}$$

$$\begin{cases} \frac{4 + 5\sqrt{6}a}{4a} > 0, \\ \frac{4 - 5\sqrt{6}a}{4a} < 0; \end{cases} \begin{cases} \begin{array}{c} + \quad - \quad + \\ \frac{4}{5\sqrt{6}} \quad 0 \end{array} \rightarrow a \\ \begin{array}{c} - \quad + \quad - \\ 0 \quad \frac{4}{5\sqrt{6}} \end{array} \rightarrow a \end{cases} \iff$$

$$\iff a \in \left(-\infty; -\frac{4}{5\sqrt{6}}\right) \cup \left(\frac{4}{5\sqrt{6}}; +\infty\right)$$

$$\text{Ответ: } \left(-\infty; -\frac{4}{5\sqrt{6}}\right) \cup \left(\frac{4}{5\sqrt{6}}; +\infty\right)$$

На одной странице можно оформлять **только одну** задачу.

Отметьте крестиком номер задачи,
решение которой представлено на странице:

| | | | | | | |
|--------------------------|--------------------------|--------------------------|--------------------------|-------------------------------------|--------------------------|--------------------------|
| 1 | 2 | 3 | 4 | 5 | 6 | 7 |
| <input type="checkbox"/> | <input type="checkbox"/> | <input type="checkbox"/> | <input type="checkbox"/> | <input checked="" type="checkbox"/> | <input type="checkbox"/> | <input type="checkbox"/> |

МФТИ

Если отмечено более одной задачи или не отмечено ни одной задачи,
страница считается черновиком и не проверяется. Порча QR-кода недопустима!

№5

$$\begin{cases} \log_7^4(6x) - 2 \log_{6x} 7 = \log_{36x^2} 343 - 4, & (1) \\ \log_7^4 y + 6 \log_y 7 = \log_{y^2} (7^5) - 4. & (2) \end{cases}$$

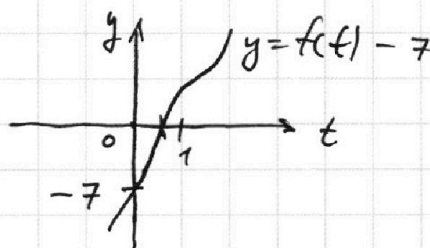
ОДЗ:

$$\begin{cases} 6x > 0, \\ 6x \neq 1, \\ 36x^2 \neq 1, \\ y > 0, \\ y \neq 1. \end{cases} \Leftrightarrow \begin{cases} x \in (0; \frac{1}{6}) \cup (\frac{1}{6}; +\infty), \\ y \in (0; 1) \cup (1; +\infty). \end{cases}$$

(1): $\log_7^4 6x - \frac{2}{\log_7 6x} = \frac{3}{2} \cdot \frac{1}{\log_7 6x} - 4$ $\quad | \cdot \log_7 6x \neq 0$

$$2 \log_7^5 6x + 8 \log_7 6x - 7 = 0$$

• Если $\log_7 6x = t$, то:



$$f(t) = 2t^5 + 8t. \quad f(0) = 0.$$

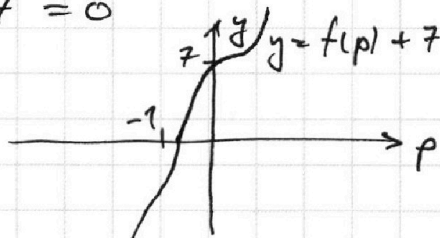
$$f'(t) = 10t^4 + 8 > 0 \Rightarrow \text{ф-ция } \uparrow \text{ возрастает.}$$

~~.....~~ ~~.....~~ $f(0) - 7 < 0, \quad f(1) - 7 > 0.$

(2): $\log_7^4 y + \frac{6}{\log_7 y} = \frac{5}{2} \cdot \frac{1}{\log_7 y} - 4$ $\quad | \cdot 2 \log_7 y \neq 0$

$$2 \log_7^5 y + 8 \log_7 y + 7 = 0$$

• Если $\log_7 y = p$:



$$f(p) = 2p^5 + 8p - \text{функция на } \text{me, } \text{числ и в (1).}$$

Пусть $f(t_0) - 7 = 0, \quad f(p_0) + 7 = 0.$

На одной странице можно оформлять **только одну** задачу.

Отметьте крестиком номер задачи,
решение которой представлено на странице:

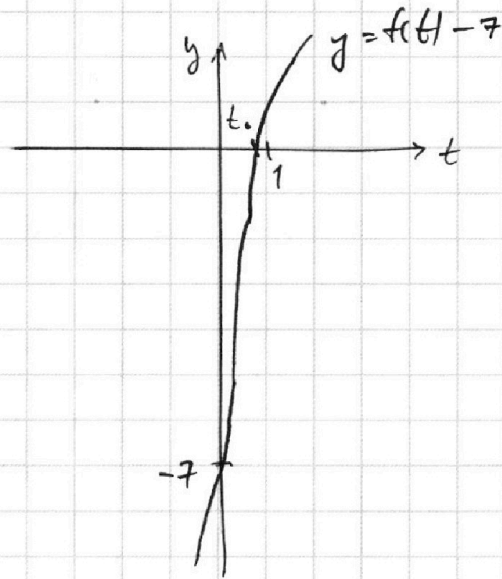
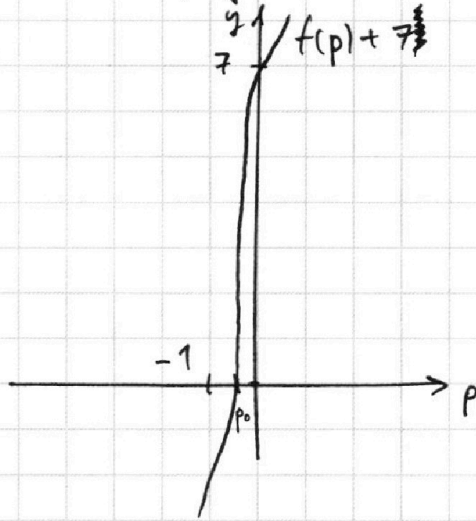
1 2 3 4 5 6 7

 МФТИ

Если отмечено более одной задачи или не отмечено ни одной задачи,
страница считается черновиком и не проверяется. Порча QR-кода недопустима!



N5 (проголосуйте)



Поскольку f есть сумма нечетного p -членов, то она сама — нечетна. Из этого $f(-7) = -f(7)$, а значит $t_0 = -p_0$.

~~$xy = \frac{7^{t_0 p_0}}{6}$~~ (но ~~этих значений~~)
 ~~$\therefore xy = \frac{7^{-p_0^2}}{6} = \frac{1}{6 \cdot 7^{p_0^2}}$~~

Поскольку $t + p = \log_7(6xy)$, то

$xy = \frac{7^{t+p}}{6}$. Единственные возможные значения:

$t = t_0$ и $p = p_0 = -t_0$, поэтому
 $xy = \frac{7^{t_0 - t_0}}{6} = \frac{7^0}{6} = \frac{1}{6}$ — такое возможно в ОДЗ (например, $x = \frac{1}{36}, y = 6$)

Ответ: $\frac{1}{6}$.

На одной странице можно оформлять **только одну** задачу.

Отметьте крестиком номер задачи,
решение которой представлено на странице:

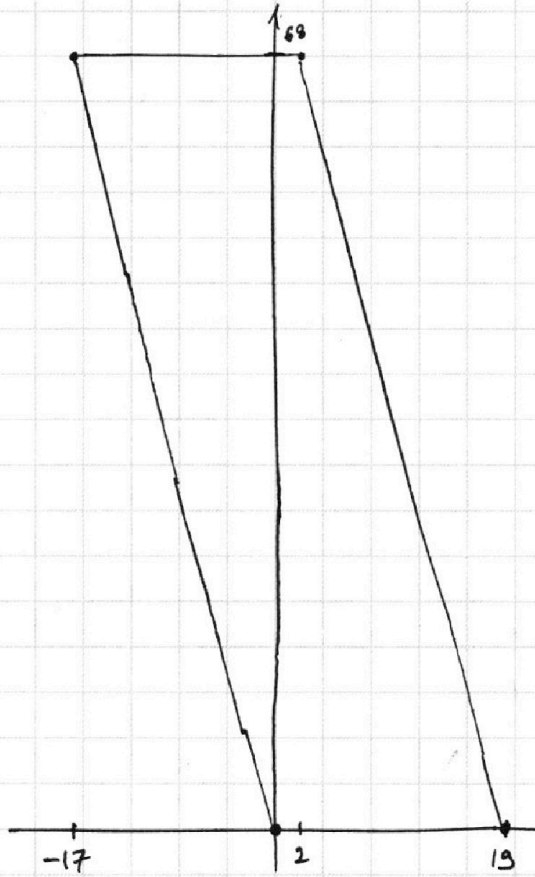
 МФТИ

- 1 2 3 4 5 6 7

Если отмечено более одной задачи или не отмечено ни одной задачи,
страница считается черновиком и не проверяется. Порча QR-кода недопустима!



№6



~~A~~ $A(x_1; y_1), B(x_2; y_2)$
 $4(x_2 - x_1) + y_2 - y_1 = 40$

На одной странице можно оформлять **только одну** задачу.

Отметьте крестиком номер задачи,
решение которой представлено на странице:

1 2 3 4 5 6 7



Если отмечено более одной задачи или не отмечено ни одной задачи,
страница считается черновиком и не проверяется. Порча QR-кода недопустима!



N1

$$a = 2^{\alpha_1} \cdot 3^{\alpha_2} \cdot 5^{\alpha_3}$$

$$b = 2^{\beta_1} \cdot 3^{\beta_2} \cdot 5^{\beta_3}$$

$$c = 2^{\gamma_1} \cdot 3^{\gamma_2} \cdot 5^{\gamma_3}$$

$$\cdot \alpha_1 + \beta_1 \geq 7, \quad \beta_1 + \gamma_1 \geq 13, \quad \alpha_1 + \gamma_1 \geq 14.$$

$$\Rightarrow \alpha_1 = 4, \quad \beta_1 = 3, \quad \gamma_1 = 10.$$

$$\cdot \alpha_2 + \beta_2 \geq 11, \quad \beta_2 + \gamma_2 \geq 15, \quad \alpha_2 + \gamma_2 \geq 17.$$

$$\Rightarrow \alpha_2 = 6, \quad \beta_2 = 5, \quad \gamma_2 = 11.$$

$$\cdot \alpha_3 + \beta_3 \geq 19, \quad \beta_3 + \gamma_3 \geq 18, \quad \alpha_3 + \gamma_3 \geq 15.$$

$$\Rightarrow \alpha_3 = 14, \quad \beta_3 = 0, \quad \gamma_3 = 23.$$

$$\times abc = 2^{\alpha_1 + \beta_1 + \gamma_1} \cdot 3^{\alpha_2 + \beta_2 + \gamma_2} \cdot 5^{\alpha_3 + \beta_3 + \gamma_3} = \cancel{2^{24} \cdot 3^{50} \cdot 5^{50}}$$

$$= \cancel{2^{17} \cdot 3^{22} \cdot 5^{13}} \quad \checkmark$$

$$2^{\cdot} \begin{cases} \alpha_2 + \beta_2 = 12 \\ \beta_2 + \gamma_2 = 15 \\ \alpha_2 + \gamma_2 = 17 \end{cases} \begin{cases} \beta_2 + \gamma_2 = 15 \\ 12 - \beta_2 + \gamma_2 = 17 \end{cases} \quad \checkmark \quad \begin{matrix} 0,5 & 4,5 & 19,5 \\ 12 + 2\gamma_2 = 32 \\ \gamma_2 = 10 \end{matrix}$$

$$\cdot 12 - \beta_2 + 10 = 17$$

$$\gamma_2 = 10.$$

$$\beta_2 = 5, \quad \alpha_2 = 7.$$

$$\min(abc) = 2^{17} \cdot 3^{22} \cdot 5^{13}$$

$$\sqrt{\frac{9}{5 \cdot 101}} = \frac{9}{10} + \frac{2}{101} = \frac{9}{10}$$

$$\frac{9}{10} = h$$

$$2 = h \cos \theta$$

$$h = \frac{2}{\cos \theta}$$

$$\alpha_1 = 7 - \beta_1$$

$$\beta_1 + \gamma_1 = 13$$

$$7 - \beta_1 = \gamma_1 = 12$$

$$7 + 2\gamma_1 \geq 17$$

$$\gamma_1 = 10$$

$$\frac{2}{\frac{1}{2} \cdot 8} = \frac{9}{\frac{1}{2} \cdot 6} = \frac{9}{\frac{1}{2} \cdot 101} = \frac{9}{10} = \frac{9}{10} - \frac{9}{10} = \frac{9}{10} - \frac{9}{10} \quad (2)$$

На одной странице можно оформлять **только одну** задачу.

Отметьте крестиком номер задачи,
решение которой представлено на странице:

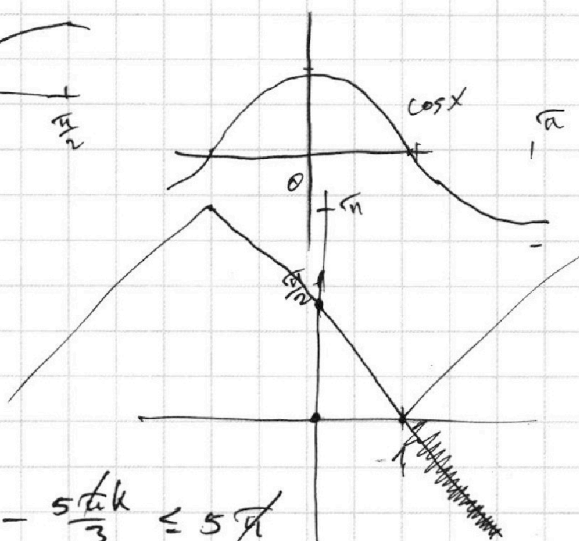
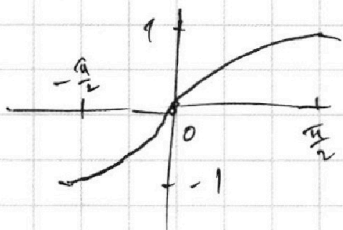
1 2 3 4 5 6 7



Если отмечено более одной задачи или не отмечено ни одной задачи,
страница считается черновиком и не проверяется. Порча QR-кода недопустима!



№3



$$\begin{aligned} \arccos(-1) &= \pi \\ \arccos 1 &= 0 \\ \arccos 0 &= \frac{\pi}{2} \end{aligned}$$

$$0 \leq \frac{3\pi}{2} + \frac{\pi}{6} - \frac{5\pi k}{3} \leq 5\pi$$

$$0 \leq \frac{3}{2} + \frac{1}{6} - \frac{5k}{3} \leq 5$$

$$-\frac{5}{3} \leq -\frac{5k}{3} \leq \frac{10}{3}$$

$$\therefore k = 0; 1; -1; -2.$$

$$\arccos(\sin x) = \frac{\frac{3\pi}{2} + x}{5}$$

$$\Leftrightarrow \begin{cases} \sin x = \cos\left(\frac{\frac{3\pi}{2} + x}{5}\right) \\ 0 \leq \frac{\frac{3\pi}{2} + x}{5} \leq \pi \end{cases}$$

$$\frac{\pi}{2} - x = \frac{3\pi}{10}$$

$$\frac{\pi}{5} - \frac{x}{5} = 2\pi k$$

$$\frac{x}{5} = \frac{\pi}{5} - 10\pi k$$

$$\cos\left(\frac{\pi}{2} - x\right) = \cos\left(\frac{1}{5}\left(\frac{3\pi}{2} + x\right)\right)$$

$$\begin{cases} \frac{\pi}{2} - x = \frac{1}{5} \cdot \frac{3\pi}{2} + \frac{x}{5} \\ \frac{\pi}{2} - x = -\frac{1}{5} \cdot \frac{3\pi}{2} - \frac{x}{5} \end{cases} \rightarrow \begin{cases} -\frac{6}{5}x = \frac{3\pi}{10} - \frac{\pi}{2} + 2\pi k \\ \frac{6}{5}x = \frac{\pi}{5} - 10\pi k \end{cases}$$

$$\frac{6}{5}x = \frac{\pi}{5} - 10\pi k$$

$$x = \frac{\pi}{6} - \frac{5}{3}\pi k$$

$$x = \frac{\pi}{2} - \frac{3\pi}{10}$$

$$\frac{6}{5}x = \frac{\pi}{5}$$

$$\frac{6}{5}x - \frac{\pi}{5} = 2\pi k$$

$$x = \frac{\pi}{6} + \frac{5\pi k}{2}$$

На одной странице можно оформлять **только одну** задачу.

Отметьте крестиком номер задачи,
решение которой представлено на странице:

1 2 3 4 5 6 7

МФТИ

Если отмечено более одной задачи или не отмечено ни одной задачи,
страница считается черновиком и не проверяется. Порча QR-кода недопустима!



$$(2)-(1): \log_7^4 y - \log_7^4(6x) + \frac{6}{\log_7 y} + \frac{2}{\log_7(6x)} - \frac{5}{2\log_7 y} - \frac{3}{2\log_7 6x} = 0$$

$$\log_7 y - \log_7 6x | (\log_7 y + \log_7 6x) (\log_7^2 6x + \log_7^2 y) +$$

$$+ \frac{7}{2\log_7 y} + \frac{7}{2\log_7 6x} = 0$$

$$\dots + \frac{7(\log_7 6x + \log_7 y)}{2\log_7 y \log_7 6x} = 0$$

$$\log_7 y + \log_7 6x = s, \quad \log_7 y - \log_7 6x = r :$$

$$r \cdot s \cdot \frac{s^2 + r^2}{2} + \frac{7s}{s^2 - r^2} = 0$$

$$\frac{rs(s^2 + r^2)(s-r)(s+r) + 14s}{2(s-r)(s+r)} = 0$$

$$\frac{s(r(s^2 - r^2) + 14)}{(s-r)(s+r)} = 0$$

$$\log_7 \left(\frac{y}{6x} \right) \cdot \log_7(y \cdot 6x) \cdot (\log_7^2 + \log_7^2) + \frac{7 \cdot \log_7(6x \cdot y)}{2 \log_7 y \cdot \log_7 6x} = 0$$

$$(2t^5 + 8t - 7)(2p^5 + 8p + 7) = 0 \quad ??$$

$$f^2 - 49 = 0$$

$$f = 7.$$


$$(f(t) - 7)(f(p) + 7) = ?$$

$$f(t)f(p) - 7f(p) + 7f(t) - 49 = ?$$

$$2x^5 + 8x = 7$$

$$2x(x^4 + 4) = 7$$

$$x^4 + 4 = \frac{7}{2x}$$



На одной странице можно оформлять только одну задачу.

Отметьте крестиком номер задачи,
решение которой представлено на странице:

| | | | | | | |
|--------------------------|--------------------------|--------------------------|--------------------------|--------------------------|--------------------------|--------------------------|
| 1 | 2 | 3 | 4 | 5 | 6 | 7 |
| <input type="checkbox"/> | <input type="checkbox"/> | <input type="checkbox"/> | <input type="checkbox"/> | <input type="checkbox"/> | <input type="checkbox"/> | <input type="checkbox"/> |

МФТИ

Если отмечено более одной задачи или не отмечено ни одной задачи,
страница считается черновиком и не проверяется. Порча QR-кода недопустима!

15

$$\begin{cases} \log_7^4(6x) - \frac{2}{\log_7 6x} = \frac{3}{2} \log_6 x - 4 \\ \log_7^4 y + \frac{6}{\log_7 y} = \frac{5}{2} \cdot \frac{1}{\log_7 y} - 4 \end{cases}$$

(1) obs: $x > 0, x \neq \frac{1}{6}; 36x^2 \neq 1 \Leftrightarrow x \neq \pm \frac{1}{6}$.

$$t^4 - \frac{2}{t} = \frac{3}{2t} - 4$$

$$\parallel t = \log_7(6x).$$

$$\frac{2t^5 - 4}{t} = \frac{3 - 8t}{t}$$

$$\frac{2t^5 + 8t - 7}{t} = 0$$

$$f(t) = 10t^4 + 8 = 0 \quad \text{~~no solution~~ } \quad t = \pm \sqrt[4]{\frac{8}{10}} \pm \sqrt[4]{\frac{4}{5}}$$

$\Rightarrow f(t)$ возрастает

$$t = \frac{1}{2}: 2 \cdot \frac{1}{32} + 8 \cdot \frac{1}{2} - 7 = \frac{1}{16} + 4 - 7 < 0.$$

$$t = \frac{1}{\sqrt{2}}: 2 \cdot \frac{1}{(\sqrt{2})^5} + \frac{8}{\sqrt{2}} - 7 = 4\sqrt{2} - 7 + \frac{1}{2\sqrt{2}} = \frac{14\sqrt{2} - 14\sqrt{2}}{2\sqrt{2}} < 0$$

$$t = \frac{1}{\sqrt[5]{2}}: 2 \cdot \frac{1}{2} + \frac{8}{\sqrt[5]{2}} - 7 = \frac{8}{\sqrt[5]{2}} - 6 > 0$$

$$\frac{8}{\sqrt[5]{2}} \approx 6$$

$$\frac{4}{\sqrt[5]{2}} \approx 3$$

$$\frac{4^5}{2} \approx 13^5$$

$$\frac{7}{6} \approx xy.$$

(2) $p^4 + \frac{6}{p} = \frac{5}{2p} - 4$

$$\frac{2p^5 + 8p + 7}{p} = 0$$

На одной странице можно оформлять **только одну** задачу.

Отметьте крестиком номер задачи, решение которой представлено на странице:

- 1 2 3 4 5 6 7



Если отмечено более одной задачи или не отмечено ни одной задачи, страница считается черновиком и не проверяется. Порча QR-кода недопустима!

24

$$(2) \begin{cases} (x+7)^2 + y^2 = 2^2 \\ x^2 + y^2 = 3^2 \end{cases}$$

$$\frac{5\sqrt{6}}{4} + \frac{5}{4} > 0$$

$$\Delta a = 0! \quad x = 7b.$$

~~минимизируем решение~~
методом χ^2 .

$$y = \frac{-x + 7b}{3a}$$

$$\Delta a \neq 0!$$

$$\frac{1}{a} + \frac{5\sqrt{6}}{4} \neq 0$$

$$\frac{4 + 5\sqrt{6}a}{4a} > 0$$

$$kx + b = 0$$

$$y = kx + b$$

$$0 = k \cdot (-7 + 2\sqrt{6}) + b$$

$$c = 7 - 2\sqrt{6}.$$

$$2 \cdot (7 - 2\sqrt{6})^2 = 2 \cdot 49$$

$$3\sqrt{2} = 7 - 2\sqrt{6} \quad \times$$

$$50 > 49$$

$$y = kx + b$$

- имеют уравнен. реш.

~~$$\begin{cases} (x+7)^2 + (kx+b)^2 = 4 \\ x^2 + (kx+b)^2 = 9 \end{cases}$$~~

~~$$19x + 4b = 4 - 9$$~~

~~$$x = \frac{-5b}{19} = -$$~~

$$2x + 3x = 7 \Rightarrow x = \frac{7}{5}$$

$$\therefore b = \frac{2}{3 \cdot \frac{7}{5}} = \frac{5}{7}$$

$$* y = -\frac{1}{3a}x + \frac{7b}{3a}$$

$$\frac{5\sqrt{6}}{25} > \frac{1}{19}$$

$$26 = c \cdot 3a$$

$$c = \frac{26}{3a}$$

$$9 - \frac{25}{41} = \frac{144}{41} - \frac{25}{41} = \frac{119}{41}$$

$$\frac{216}{216} = 6^3$$

$$\frac{216}{216} = 6^3$$

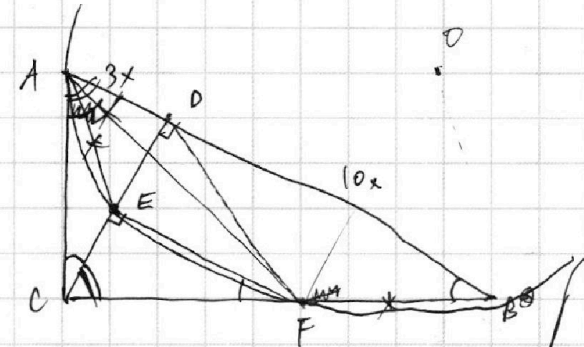
На одной странице можно оформлять только одну задачу.

Отметьте крестиком номер задачи, решение которой представлено на странице:

- 1 2 3 4 5 6 7

МФТИ

Если отмечено более одной задачи или не отмечено ни одной задачи, страница считается черновиком и не проверяется. Порча QR-кода недопустима!



$$CD = \sqrt{30} x.$$

$$AC = \sqrt{9x^2 + 30x^2} = \sqrt{39} x$$

$$CB = \sqrt{100x^2 + 30x^2} = \sqrt{130} x$$

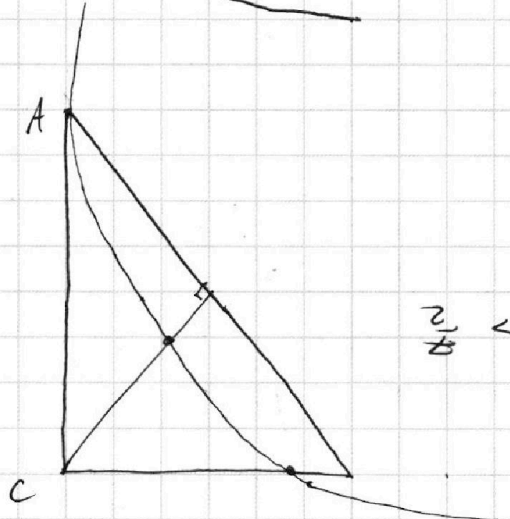
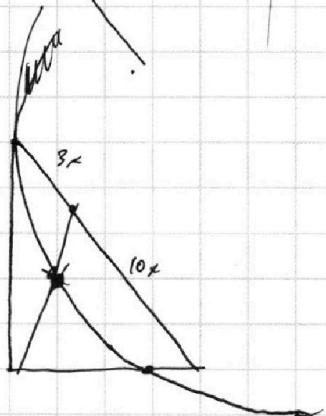
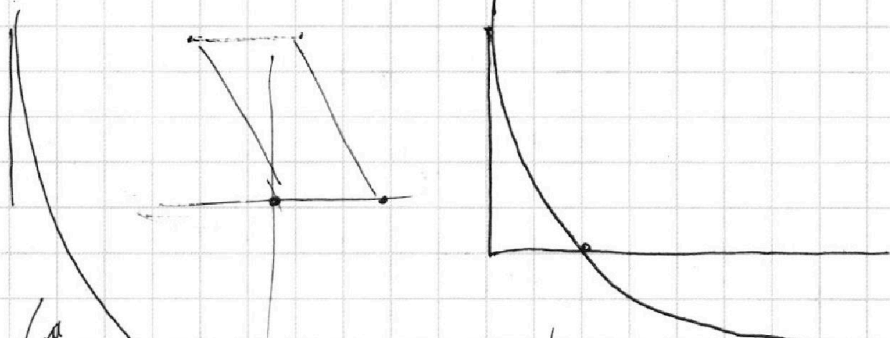
~~AE = EB~~, т.к. $\angle AEF = \angle EBF$.

$$\angle EFC = \alpha x$$

$$\therefore CE = \frac{\alpha x}{10}$$

$$ED = \sqrt{30} x - \frac{\alpha x}{10}$$

$$EF = \frac{\sqrt{30} \alpha x}{10}$$



$\frac{1}{2} \sqrt{30}$

Handwritten scribbles and notes.

$$\frac{6}{1} + \frac{3}{10} = \frac{6}{2}$$

$$\frac{6}{1} + \frac{6}{10} = \frac{6}{11}$$

$$\frac{6}{1} - \frac{6}{10} = \frac{6}{11}$$

$$\frac{6}{1} - \frac{6}{10} = \frac{6}{11}$$

$$\frac{6}{1} - \frac{6}{10} = \frac{6}{11}$$